

June.14th 2014 VAO Village Administrative Officer Posts Keys and Cut-Off Analysis.

After Checking kindly sms the following details, it will be useful to estimate the CUT-OFF.

Check this Website to predict the Cut-off Qns after analysing your score, Please wait for a few days.

THANKS FOR YOUR CO-OPERATION.

kindly sms the following details TO 9840398093.

1)No of Questions Correct (Out of 120 how many correct) in GK/MATHS/VAO-ADMN

2)No of Questions Correct (Out of 80 how many correct) in GT/GE

3)Gender -

4)Reservation Category -

5)Your city -

to 98403 98093.

Classes for IAS-2014, TRB-TET Papers, SBI/IBPS-Bank PO, TNPSC & SSC CLASS ROOM COACHING & ONLINE.

To get Coaching details/Class commencing Dates sms from your mobile

1) sms UPSC-CHENNAI (or) UPSC-MADURAI to 9840398093.

2) sms TNPSC-CHENNAI (or) TNPSC-MADURAI to 9840398093.

3) sms BANK-CHENNAI (or) BANK-MADURAI to 9840398093.

4) sms TRB-CHENNAI (or) TRB-MADURAI to 9840398093.

5) sms SI-CHENNAI (or) SI-MADURAI to 9840398093.

For any queries mail to r.rajaboopathy@gmail.com

1. உடம்பார் அறிவிக்க உடிகள் அறிவிக்க - இக்கேள்வியில் பதிலிடுவது எதுவாகும்?

- (A) காலம் காலமாக
- (B) இயைக்க காலமாக
- (C) முத்து காலமாக
- (D) கெட்டுப்படி காலமாக



2. மர முள் திரைகள் விள முள் திரைகள் வறுமை

- (A) காலத்தி காலமாக
- (B) இயைக்க காலமாக
- (C) கெட்டுப்படி காலமாக
- (D) காலத்தி காலமாக

3. புகைபிடி காலத்தி காலமாக - உயைக்க உயைக்க காலமாக

- (A) காலமாக
- (B) காலமாக
- (C) காலமாக
- (D) காலமாக

4. திரைகள் திரைகள் திரைகள் திரைகள்

- (a) திரைகள் திரைகள் 1. காலமாக
- (b) காலமாக காலமாக 2. காலமாக
- (c) காலமாக காலமாக 3. காலமாக
- (d) காலமாக காலமாக 4. காலமாக

	(a)	(b)	(c)	(d)
(A)	2	4	1	3
(B)	2	3	4	1
(C)	3	1	2	4
(D)	4	3	2	1

5. தீவிரவாத வாதியைப்போல கவர் :
கற்று A : 95 - வகை சிந்திப்பவர்களுள் ஒன்று கவர்பவன்.
விளக்கம் R : பல்வகைப் பாதகங்களும் கைத்தொடுவது கவர்பவன். ஆறாம் புத்திரம் கைத்து பாடப்படுவது கவர்பவன்.

- (A) A னி ஆணம் R தவறு
- (B) A தவறு ஆணம் R னி
- (C) A மற்றும் R இரண்டும் னி
- (D) A மற்றும் R இரண்டும் தவறு

6. தூண்டிய கேள்வியை அல்லா விளக்கிய வாயின் ஆதம் அறிவு

- இங்குட்பாசில் 'தூண்டிய' - என்னும் பொருள்முறைக்கும் ஆர்வியைக் கொடு

- (A) SILENCER
- (B) INTELLIGENT
- (C) SIGNOR
- (D) SILVER - TONGUED

RADIAN IAS ACADEMY
711 PH Road, Opp. Anna Ash
NSK Nagar, Chennai - 990 139
Ph: 98404 00825, 99527 00505
www.radiannews.pbworks.com

7. "மலைக்கு விளக்கம் மடவாள் மடவாள் தவிர்த்த தவணம் புத்தவர்"

- இப்பாடல் ஆதிப்பரைக் கண்டித்து எழுதியது.

- (A) விளம்பி தவணர்
- (B) கமல முனிவர்
- (C) முன்றுறை அரைப்பணர்
- (D) தவண்பணர்

8. பிசுவருவையெடுத்துள் 'ஈறுபேரன்' முள் திவறு மெய் திரிதல்' என்னும் விதிவிலக்கு படி புனைத்தது

- (A) கருவகம்
- (B) பெருங்குன்ற
- (C) சிற்றூர்
- (D) கெய்திரோன்

9. சிவங்குலவையெடுத்துள் பொருத்தந்த பொருள் எது?

- (A) புறம் - சிறந்த னர்
- (B) யாக்கம் - கட்டுவரைச் சிற்றூர்
- (C) குட்டம் - குறிஞ்சி நில வாழ்விட்டம்
- (D) பட்டினம் - கட்டுவரை நகரம்

GT714

er

10. பொருள்படுத்த பொருத்தது.

I		II
(a) சட்டநடை ஏறிடவர்		1. தூக்கம்
(b) எழுவரை இணையவர்		2. புத்தகம்
(c) இறையணை நடமாடச் செய்தவர்		3. சேடர்
(d) தாருகை மாண்பைப் பெற்றவர்		4. கோற்றமை

	(a)	(b)	(c)	(d)
(A)	4	3	2	1
(B)	3	4	1	2
(C)	4	3	1	2
(D)	2	1	4	3

11. "மழிவிவி அரை நிள் மலையு பணிவிண் வானம் ஆள்வாரே"

- இப்பாடல் இயற்றியவர்

- (A) இராமானுஜமேனன்
- (B) நத்தியமான்
- (C) நரசிம்மயாரவர்
- (D) கந்தர் பாண்டியர்

12. தாமரைவிழைத் தள்ளிச் செய்து - உலகமே உணர்ந்தும் பொருள்

- (A) மகிழ்ச்சி
- (B) தட்டி
- (C) பற்றின்மை
- (D) தவிப்பு

13. எவ்வகை வாதியை என் கண்டெழுந்தம்?

கேள் சிவந்ததை வீழ்த்தினார்

- (A) தனிவாதியை
- (B) தொடர் வாதியை
- (C) எதிர்மறை வாதியை
- (D) கணை வாதியை

14. விளக்க வேறு விளக்கைத் தேர் :
கடுவர் நட்புக்கு இவ்வகையாகத் திணுந்தார்.

- (A) இவ்வகையாகத் திணுந்தவர் யார்?
- (B) நட்புக்கு இவ்வகையாகத் திணுந்தவர் யார்?
- (C) நட்புக்குச் சிறந்த புலவர் யார்?
- (D) தட்டி என்பது யாது?

er

GT714
[Turn over

15. "கவிதா எதித்து பெயர்ந்த எண்களுக்குடனே" என்ற அடி இடம் பெற்ற தலை

- (A) பதிற்றுப்பத்து
- (B) பரிபாடல்
- (C) பட்டினப்பாலை
- (D) புறநானூறு

16. 'குறந்தொலை' என்ற தலைந் தொகுத்தவர்

- (A) கூடலூர்க்கிழார்
- (B) உருத்திர சிவன்
- (C) பூரிசினே
- (D) பெருந்தொலைவர்

17. "செல்வத்துப் பயனே நாம்" எனப் பாடியவர்

- (A) திருவள்ளுவர்
- (B) சாக்கீரன்
- (C) கடுவன்
- (D) குழைவையர்

18. பொருத்த இணைமையத் தேர்

- | | |
|------------------|----------|
| சொல் | பொருள் |
| (A) கா - - - - - | சொகை |
| (B) ச - - - - - | சாமை |
| (C) மா - - - - - | விவசூ |
| (D) மீ - - - - - | உயர்ச்சி |

19. வாக்மிய அமைப்பினால் கண்டித

- இணைமையம் கல்
- (A) சிறலினை வாக்மியம்
- (B) கலைவ வாக்மியம்
- (C) கட்டகை வாக்மியம்
- (D) கிலை வாக்மியம்

GT714

er

20. மனிதனின் மரணமையை இரூள், மரூள், தெரூள், அரூள் - எனக் கூறியவர்

- (A) இராமலிங்க அடிகள்
- (B) இரா.பி. சேதுப்பிள்ளை
- (C) சாமக்கல் - இராமலிங்கம் சிவனார்
- (D) முத்துராமலிங்கத் தேவர்

21. "கல்பொன்றி மல்பொன்றல் கலத்திற் றாசொழு

முள்பொன்றிப் புத்த சூடி"
- என சாதினத்தின் தொன்மையைப் பற்றிக் கூறும் முயின் பெயர்

- (A) புறநானூறு
- (B) புறப்பொருள் பெயர்வு மானை
- (C) பதிற்றுப்பத்து
- (D) தொன்மையம்

22. பொருத்த பெயரைத் தேர்

- (A) சிவ்வை
- (B) தியானம்
- (C) குளமணி
- (D) குடமணி

23. பொருத்த இணைமையத் தேர்

- | | | |
|-------------|---|--------|
| (A) கூறு | - | அழகை |
| (B) குயில் | - | கூகி |
| (C) கவிநகம் | - | காழகம் |
| (D) கிணை | - | புறமலை |

er

GT714
[Turn over

24. அரியவற்றின் எண்ணம் அரிதே - பெரியவரை

இவ்வாறில் பரிசீலிக்கும் ஏதுமா

- (A) இளை ஏதுமா
- (B) பெரிப்பது ஏதுமா
- (C) நீழ்க்குவாய் ஏதுமா
- (D) பெருக்கவாய் ஏதுமா

25. அப்பாறாள் வேண்டுகல்பேட டுசுப்பிதம் வேண்டும

ஆளுவீரல் வேண்டுகல்பு அன்புமெயல் வேண்டும

இதில் பரிசீலிக்கும் இவையுள் சேர்ந்த

- (A) அப்பா - ஆளுவீர்
- (B) அப்பா - அன்புமெயல்
- (C) வேண்டுகல்பு - வேண்டும
- (D) வேண்டும - வேண்டுகல்பு

26. அந்தமில்லாத நந்தம் சீரானது ஒரளவு வாய்ப்பாடுகளில் ஒன்று சேர்த்து முடியும் பா வகை

- (A) வகுப்பிபா
- (B) அறிப்பா
- (C) வேண்டியா
- (D) ஆயிர்ப்பா

GT714

8

er

வினாக்கள் R : ஒரு சேவ்வில் அந்தம் 'அக' உயிர்ப்பெயல் அருத்து வரிக் குறிப்புகளால் எண்ப்படும.

- (A) A மற்றுப் R இரண்டும அரி. மேலும் A க்கு R அரியான வினாக்களும்
- (B) A அரி R தவறு. மேலும் A க்கு R அரியான வினாக்களும்
- (C) A தவறு R அரி. மேலும் R வினாக்களில் A அரியானது தெடர் A அன்று
- (D) A மற்றுப் R இரண்டும தவறு

28. நீழ்க்கவல் வாய்ப்பாடுகளில் எவ்வாறு:

அற்று A : உயிர்ப்பெயல் வகைகளில் ஒன்று இவ்வகைப்பெயல். ஒன்று மற்றவகையான ஒன்று வினாக்கள் R : பெரியவரில் ஒரளவு குறைவாகு மேலும் இவ்வகை இவ்வகை அறப்பெயல். இவ்வகைப்பெயல்.

- (A) A மற்றுப் R இரண்டும அரி. மேலும் A க்கு R அரியான வினாக்களும்
- (B) A மற்றுப் R இரண்டும தவறு
- (C) A அரி R தவறு. மேலும் A க்கு R அரியான வினாக்களும்
- (D) A தவறு R அரி. R வினாக்களில் பெருக்கவால் தெடர் A அறப்பெயல்

29. நீழ்க்கவல் வாய்ப்பாடுகளில் எவ்வாறு:

அற்று A : அருப்பெயல்களில் ஒன்று 'அற' ஆகும். வினாக்கள் R : குறிப்பில் நிபந்தித அருப்பெயல்களில் ஒன்றாக 'தொண்டகப்பறைப்படி' முகல் நிபந்தித அருப்பெயல்களில் ஒன்றாக 'மறைப்பறைப்படி' குறிப்பிடுகிற அறப்பெயல்.

- (A) அற்று A தவறு. வினாக்கள் R அரி
- (B) அற்று A அரி. வினாக்கள் R தவறு
- (C) வினாக்கள் R தவறு. அற்று A தவறு
- (D) வினாக்கள் R அரி. அற்று A அரி

er

9

GT7
[Turn ov

30. "கவியுருவம் இவையென குறுகி நீ
ஆயாள் யானை ஆயின இயற்றினான்" -
- இயற்பெயருடைய இயற்றினான் - யார்?

- (A) கவிமலை (B) குகை
(C) இலங்கையன் (D) அனுமன்

31. சொல்லுகின்ற பொருளை பொருத்தும்:

- | | | |
|-------------|----|--------|
| (a) அம்ம | 1. | குறுகி |
| (b) அம் | 2. | பயறு |
| (c) தீய | 3. | இருக |
| (d) தலைமுடி | 4. | படநீ |

- | | | | |
|-------|-----|-----|-----|
| (a) | (b) | (c) | (d) |
| (A) 4 | 3 | 2 | 1 |
| (B) 1 | 2 | 3 | 4 |
| (C) 2 | 3 | 4 | 1 |
| (D) 3 | 4 | 1 | 2 |

32. தலைப்பை துணைவிவரமும் பொருத்தும்:

- | | | |
|-----------------------|----|------------------|
| (a) வித்தல் | 1. | குறுகியுடம் |
| (b) ச. அழகிதம் | 2. | பெற்றவைம் |
| (c) இறந்திய பரத்தலைநி | 3. | செந்தெய்யுடம் |
| (d) முடி | 4. | புறும் புவையுடம் |

- | | | | |
|-------|-----|-----|-----|
| (a) | (b) | (c) | (d) |
| (A) 4 | 3 | 1 | 2 |
| (B) 4 | 2 | 3 | 2 |
| (C) 3 | 2 | 1 | 4 |
| (D) 2 | 4 | 3 | 1 |

GT714

10

33. பின்வருவனவற்றுள் எது பொருத்ததும்?

- (A) நாகரூபர் காவியம்
(B) உதயன் துரை காவியம்
(C) குண்டலமேலி
(D) நீலமேலி

34. சாத்தியக் முக்கீரன்; வண்பு ஆயுள் தந்தீரன் - அம்முயல் பர வண - பின்வருவனவற்றுள் எது?

- (A) தெரிவா ஆசிரியப்பர்
(B) திணை மண்டி ஆசிரியப்பர்
(C) அடியறி மண்டி ஆசிரியப்பர்
(D) இளை குறளிரியப்பர்

35. பொருளற்ற பொருத்தும்

- | | |
|-------------|------------|
| செய் | பொருள் |
| (a) கலையம் | 1. கிளி |
| (b) விவேகன் | 2. பெயர்வை |
| (c) வரலி | 3. ஞானி |
| (d) அஞ்சல் | 4. குறவன் |

- | | | | |
|-------|-----|-----|-----|
| (a) | (b) | (c) | (d) |
| (A) 3 | 2 | 1 | 1 |
| (B) 4 | 2 | 3 | 1 |
| (C) 4 | 2 | 1 | 3 |
| (D) 3 | 4 | 2 | 1 |

36. தீயமொழியும் செல்லும்பரிதி தன்மொழியும் வினமொழியும் உருவியொழியும்
மங்குடும் இயற்றொழியும் பிறந்த தமிழுடும் பிறந்தொழும் தங்குடும்
- சைத் தமிழின் பழகு சிறப்பினும் பெருவிறும் பெருமய்யுடும் கவிஞர்

- (A) யாழ்ப்பாணம்
(B) கன்னடநாடு
(C) கரநாடு
(D) பார்த்தினம்

GT714

11

GT714
[Turn over

37. குறையும் தூண்டியுமாயும் பொருத்தும்:

- | | | |
|---------------------------------------|----|----------------|
| (a) செயலாடும் பிணை | 1. | யாண்டிழை |
| (b) குரிய தாராயண எந்திரி | 2. | அகலிசை செயல்பு |
| (c) செய.ப. அபிவிருத்தியுள் முதுவியுள் | 3. | பாதிசை |
| (d) ஓ. நாசையகலர் | 4. | நீதி தரும் |

(a)	(b)	(c)	(d)
(A) 4	1	2	3
(B) 1	2	4	3
(C) 3	1	2	4
(D) 4	3	2	1

38. செயலாடும்புள்ள தூ. பாந்திராதி எழுதிய தூண்டல் கட்டுரை

- (A) கவிதைகள் எழுதும்
(B) எழுதும் கவிதை
(C) யாண்டிழை
(D) முதுவியுள் மயலும்

39. குறையும் தொகுப்பின் பொருத்தத் தோல்வியை எடுத்தெழுதும்

- (A) செயலாடும்
(B) யாண்டிழை
(C) கருமை
(D) செயல்பு

40. அளவுகணிப்படி தேர்ந்தெடுத்த எழுத்து

- (A) செயலாடும், மீள், எழும், மண், முடி
(B) மண், மீள், முடி, செயலாடும், எழும்
(C) முடி, மீள், செயலாடும், எழும், மண்
(D) மண், முடி, எழும், செயலாடும், மீள்

41. 'உதவி' - என்ற சொல்லின் சரியான பொருள் உணர்ந்தும் தெரிவிக்கவேண்டி தேர்ந்தெடுத்த எழுத்து

- (A) உணர்ந்தெழுத்து உயர்வியல்
(B) உயர்ந்தெழுத்து உயர்வு மதிக்கும்
(C) உயர்வியல் மதிப்பெழுத்து தரும்
(D) உயர்ந்தெழுத்து உதவும் உயர்வியல் செயல்பு

GT714

42. சரியான பொருத்தம்:

- | | |
|----------------------|-------------------|
| தூண்டியுள் | தூண் |
| (a) அழகு | 1. செயலாடும்பு |
| (b) முடிமயம் | 2. பாதிசை செயல்பு |
| (c) யாண்டிழை | 3. கவிதை இயல்பு |
| (d) அழகுதான் செயல்பு | 4. முதுவியுள் |

(a)	(b)	(c)	(d)
(A) 4	3	1	3
(B) 3	4	1	2
(C) 3	1	2	4
(D) 2	3	4	1

43. தெரிவிக்கப்பட்டுள்ள சொற்களுக்கான இயல்புகள் குறிப்புகளில் சரியான சொற்கள் தேர்வு செய்.

யாண்டிழை - அழகு

- (A) அழகுதான் செயல்பு, செயலாடும் கட்டுரை
(B) பாதிசை செயல்பு, செயலாடும் கட்டுரை
(C) உயர்ந்தெழுத்து உயர்வு, அழகுதான் செயல்பு
(D) கவிதை செயல்பு, பாதிசை செயல்பு

44. குறையும் விழுப்பம் தரவும் ஒழுக்கம்

உயர்ந்தும் ஒழுக்கம் படு - இதில் பயிற்று வரும் சொற்கள் தெரிவிக்க

- (A) குறையும் - குறையும்
(B) குறையும் - விழுப்பம்
(C) விழுப்பம் - தரவும்
(D) உயர்ந்தும் - ஒழுக்கம்

45. 'தெய்வக் கங்கை' - என்று பெயர் பெற்றது

- (A) தாமிரவளி நேரல்
- (B) அமிரகவிமலம்
- (C) கங்கைப் புலவர்
- (D) சிவசேனா கவியகம்

46. கோலம் பெருமை நபரைப் பற்றி எது?

- (A) கோல வணக்கத்தோடு
- (B) திருவள்ளூர் முயலாளர் கோலம்
- (C) கோலக் கவிமலம்
- (D) குலமலர்

47. சிவசேனா கவியகம் எது கவி இயக்கம் இயக்கம்?

- (A) சைவ சித்தாந்தம்
- (B) குலமலர்
- (C) குலமலர்
- (D) சைவம்

48. சிவசேனா பட்டியலில் கீ. கோ. குரிய நபரை எழுதினார் எழுதிய நபர் எது?

- (A) தமிழ் நாவல் எழுத்தர்
- (B) புலவர் புலவர்
- (C) தமிழ் புலவர் எழுத்தர்
- (D) புலவர் எழுத்தர் புலவர்

GT714

49. அற நான்கில் ஒரு ஆய்வு நெடுக்த "தமிழ் பெரும் கவியகம்" - என்று நான்கு நெடுக்த விளக்கம் அளித்தவர்

- (A) H.A. சிவசேனா கோலம்
- (B) விநாயகர்
- (C) தீ. ப. கோலம்
- (D) கங்கை

50. சிறந்த சிவசேனா கவியகம் சிறந்த விருந்தினர் சிறந்த புலவர் சிறந்த புலவர் சிறந்த புலவர் இது கவியகம் என்று சிறந்த - கவி கவி

- (A) அய்யப்பன்
- (B) கங்கை
- (C) ச. கோ. இராமசாமி
- (D) கங்கை

51. சிவசேனா கவியகம் பற்றி கவி அய்யப்பன்

- (A) கவி
- (B) ஆளுகைய சிவசேனா
- (C) கங்கை கோலம்
- (D) பெரியகவியகம் கோலம்

52. தவிரிய கோலம் பெருக்த

- | | | |
|-----------------|----|-------------|
| (a) கங்கை கோலம் | 1. | குலமலர் |
| (b) கங்கை கோலம் | 2. | கங்கை கோலம் |
| (c) கங்கை கோலம் | 3. | கங்கை கோலம் |
| (d) கங்கை கோலம் | 4. | கங்கை கோலம் |

- | | | | |
|-------|-----|-----|-----|
| (a) | (b) | (c) | (d) |
| (A) 2 | 4 | 3 | 1 |
| (B) 1 | 2 | 3 | 4 |
| (C) 1 | 3 | 2 | 4 |
| (D) 2 | 4 | 1 | 3 |

GT714

53. சிவசூரியன்வழி 'தமிழகத்தில் நூல் குத்து உபயோகம் ஐந்தாம் ஆண்டில் ஆரம்பிக்கப்பட்டது' என்பது உண்மை அல்லவா?

(A) சரி
(B) தவறு
(C) சரியற்றது
(D) அறியப்படவில்லை

54. சாதாரண வாழ்வு செலவுகளை குறைக்க உதவுகின்ற செலவு - இடம் பெற்ற நூல் எது?

(A) சிவசூரியன்வழி
(B) சிவசூரியன்வழி
(C) சிவசூரியன்வழி
(D) சிவசூரியன்வழி

55. பொருத்த இடங்களைக் கண்டறிந்து கொடுக்கவும்.

இடம்	சிறப்பு பெயர்
(a) திருவிடைமருதூர்	1. தமிழ்நாடு
(b) மதுரை	2. தமிழ்நாடு
(c) இராஜகோட்டை	3. தமிழ்நாடு
(d) உடையார்பாளையம்	4. சென்னை

(a) (b) (c) (d)
 (A) 4 3 1 2
 (B) 1 2 3 4
 (C) 2 4 3 1
 (D) 2 3 4 1

56. நெடுவாசலில் தங்கியிருந்த குளம் தவிர்த்தல் திட்டத்தின் கீழ் - எந்த நூல் உதவி செய்தது?

(A) மதுரை அறிவு
(B) அறிவு அறிவு
(C) அறிவு அறிவு
(D) அறிவு அறிவு

57. பொருத்தமான சொற்களைக் கண்டறிந்து கொடுக்கவும்.

(A) அறிவு
(B) அறிவு
(C) அறிவு
(D) அறிவு

GT714

58. சிவசூரியன்வழி இலக்கணம் குறிப்பிட்டுள்ள பொருத்த சொற்களைக் கண்டறிந்து கொடுக்கவும்.

(A) தமிழ்நாடு
(B) அறிவு
(C) அறிவு
(D) அறிவு

59. சிவசூரியன்வழி எது அறிவு பெறும் நூல்?

(A) அறிவு
(B) அறிவு
(C) அறிவு
(D) அறிவு

60. 'அறிவு' என்பது எந்த நூலின் கருவியாக உள்ளது?

(A) அறிவு
(B) அறிவு
(C) அறிவு
(D) அறிவு

61. சிவசூரியன்வழி என்ன இலக்கணம்?

(A) அறிவு - அறிவு
(B) அறிவு - அறிவு
(C) அறிவு - அறிவு
(D) அறிவு - அறிவு

62. "குளம் திரைக்கு நீர்த்தடம்பெயல் குளிர் குளமும் பரப்பெளயம்" எனும் மருவிய திருந்தருதணர் பற்றி வந்தனவற்றை "இப்பாடலுக்குரிய சொற்களாக"

- (A) திருநாவுக்கரசர்
- (B) குளமெய்துறை
- (C) கந்தர்
- (D) மயிலாமை

63. ஓளி பெறுபாட்டுத்து விவகாரம் பெருகாத நேரத்தைத்து மருவிய மணம்-மணம் என்ற சொல்லின் பொருள் யாது?

- (A) உயிர் - உயிர்
- (B) உயிர் - இயல்
- (C) உயிர் - உயிர்
- (D) மணம் - மணம்

64. திருநாவுக்கரசர் தந்த பாடல் சொற்களின் மறுபாட்டு திருவாய் மொழித்து மருவிய

- (A) மறுபாடு
- (B) மறுபாடு
- (C) மறுபாடு
- (D) மறுபாடு

65. பவமம் என்ற சொல்லிக்கு செய்யுள் என்ற சொல்லம் குறள் குறளின் பவமப்படுத்தியவர்

- (A) மறுபாடு அடியை
- (B) பரிசீலனை அடியை
- (C) திருவி. கவிபாணசுந்தரன்
- (D) உயிர்மொழி அடியை

GT714

66. "உயிர்மொழி விவகாரம்" - என்ற குறள் மருவியவர்

- (A) மறுபாடு விவகாரம்
- (B) மறுபாடு மருவியவர்
- (C) உயிர்மொழி விவகாரம்
- (D) மறுபாடு மருவியவர்

67. குறள்மருவிய திருவாய் மருவியவர் அம்மொழி மருவியவர்

- (A) மருவியவர்
- (B) மருவியவர்
- (C) மருவியவர்
- (D) மருவியவர்

68. மறுபாடு மருவிய குறள் மருவியவர் மருவியவர்

- (A) மருவியவர்
- (B) மருவியவர்
- (C) மருவியவர்
- (D) மருவியவர்

er

GT714
[Turn over

69. பொருத்தம்.

ஆர்யியர்	சிறகை
(a) கு. வரதராசனார்	1. மெல்ல மெல்ல மற
(b) பூதேவி எம். இலட்சுமி	2. நன்றியுடன்
(c) தீவன்	3. மனம் துளிர்த்துறும் பணம்
(d) இலட்சுமி	4. குறட்டை ஒலி

	(a)	(b)	(c)	(d)
(A)	4	3	2	1
(B)	4	3	1	2
(C)	4	2	3	1
(D)	2	1	3	4

70. "மகன்தான் நெயரும் பிரயோகம் தரலாம்
நெய்க்கு வினாவும் பெயர் என்முடி"

இவ்வெழுத்துகள் இடம் பெற்ற நூல்

- (A) தீவன்புராணம் (B) குறட்டைக்கவி
(C) வள்ளியங்கலை (D) வள்ளியங்கலை

71. பொருத்தம் இலக்கணம் யாது?

- (A) கூடா - விளி
(B) நேர - தானியங்கு பெயர்
(C) இருந்தவன்மம் - ஈழமொட்டி எதிர்ப்புறை பெயர்நெயர்
(D) தீவனம் - 2-ஆம் நேற்றுவன் கூடியும் பயணம் உடல் நெய்க் நெய்க்

72. வினாவும் இலக்கணங்களின் தவறானது யது?

- (A) இவ்வாறு - வினாவாணமெயும் பெயர்
(B) நேற்றி - வினாவை நெய்க்
(C) இவ்வாறென - ஈழமொட்டி எதிர்ப்புறை பெயர்நெயர்
(D) உடல்வாறு - வினாவெயும்

GT714

20

er

73. சரியானவற்றைத் தேர் :

உரிப்பொருள்	தீவன்
(1) மனதும் மனம் திமித்தலும்	- மருதம்
(2) மனதும் மனம் திமித்தலும்	- நம்மம்
(3) இரங்கலும் இரங்கல் திமித்தலும்	- நெய்க்
(4) இருந்தலும் இருந்தல் திமித்தலும்	- பணம்

- (A) 1-ம் 2-ம்-ல்
(B) 2-ம் 3-ம்-ல்
(C) 1-ம் 3-ம்-ல்
(D) 3-ம் 4-ம்-ல்

74. சரியானவற்றைத் தேர் :

நெய்க்	தீவன்
(1) மருதம்	- குறிஞ்சி
(2) இத்திவன்	- மருதம்
(3) மருதம்	- நெய்க்
(4) திருமல்	- பணம்

- (A) 2-ம் 3-ம்-ல்
(B) 1-ம் 2-ம்-ல்
(C) 2-ம் 4-ம்-ல்
(D) 1-ம் 4-ம்-ல்

75. இலக்கணக் குறிப்பை மெல்ல எழுதுக.
இவ்வாறு அமைப்பை.

- (A) கூடல் (B) குறிஞ்சி
(C) பருதம் (D) தன்முதலும்

76. வினாவும் இலக்கணமும் பொருத்தம் இலக்கணம் தேர்நெய்க் நெய்க்

- (A) குறிஞ்சி எதிர்ப்புறை - நம்மம்
(B) மருதம் - பருதியன்
(C) மருதம் - தீவன் மெய்யும்
(D) குறிஞ்சி - பருதியன்

er

21

GT714
[Turn over

77. வாங்கிய அமைப்புகளைக் கண்டுக
 நேரடி வங்கிப் பணியில் ஆண்டுக்கு நடைபெற்றது
- (A) வீணா வாங்கியம்
 - (B) செவ்வி வாங்கியம்**
 - (C) சிந்தனை வாங்கியம்
 - (D) உணர்ச்சி வாங்கியம்
78. ஒளி வேறுபாட்டுக்கு விளைவாகப் பொருளைத் தேர்ந்தெடுத்து எழுதும்
 அமை - அமை வகை பொருளில் பொருள் பாத்?
- (A) கட்டப்பகுதி - ஒன்றில் பாத்**
 - (B) காலியைப்பகுதி - கட்டப்பகுதி
 - (C) ஒரு பொருளில் பாத் - ஒர் அமைவகைப்பகுதி
 - (D) ஒன்றில் பாத் - கட்டப்பகுதி

79. பொருத்த இயைபைக் கண்டுக
- | | |
|--------------------------|-------------------|
| ஆசிரியர் | இயற்றிய நூல் |
| (A) வீரமாமுனிவர் | பாரதிதேவியின் கதை |
| (B) தேவநேயப்பார்த்தசாரதி | தமிழர் திருமறை |
| (C) திரு வி.க. | காவியத் திரை |
| (D) பொருத்தத்திரை | தமிழர் மொழி |

80. அளவுகோல்கள் தேர்ந்தெடுத்து எழுதும்
- (A) அட்டை, பூட்டு, பெண், பெண், பூட்டு
 - (B) பூட்டு, பூட்டு, அட்டை, பெண், பெண்
 - (C) பூட்டு, அட்டை, பூட்டு, பெண், பெண்**
 - (D) பெண், பெண், பூட்டு, அட்டை, பூட்டு

GT714

22

er

81. If the simple interest for an amount at 4% per annum for 3 years is Rs. 1,200. Find the compound interest at the same rate for the same amount for 2 years.
- (A) Rs. 10,116 *3 year SI = 1200* (B) Rs. 10,720 *Interest on Interest*
 (C) Rs. 10,616 *1 year SI = 400* **(D) Rs. 816**
- Two years Compound Interest = 400 + 400 + 16 = 816*
- ஒரு குறிப்பிட்ட தொகைக்கு 3 வருடத்தில் 4% வட்டி வீதத்தில் ரூ. 1,200 தொகையின் சிம்கட்டிதது. அதே தொகைக்கு அதே வட்டி வீதத்தில் 2 வருடத்தில் சிம்கட்டிதது கட்டு வட்டி பாத்?
- (A) ரூ. 10,116 *3 வருட கட்டி = 1200* (B) ரூ. 10,720 *உடம்புமீட்டு கட்டி*
 (C) ரூ. 10,616 *1 வருட கட்டி = 400* **(D) ரூ. 816** *7% கட்டி*
- 2 வருட சிம்கட்டி = 400 + 400 + 16 = 816*

82. Which of the following is/are true?
- (i) $ax = bx \Rightarrow a = b$ *⇒ If x=0 then does not imply a=b*
 - (ii) $\frac{x}{a} = \frac{x}{b} \Rightarrow a = b$ *Ex 3x0 = 7x0 ⇒ 3=7*
 - (iii) $a = b \Rightarrow ax = bx$ *Similarly here also*
 - (iv) $a + x = b + x \Rightarrow a = b$ *These are true for any value of x, a, b.*
- (A) (i), (ii), (iii) and (iv) (B) (i), (iii) and (iv) only
 (C) (i) and (iv) only **(D) (iii) and (iv) only**

NOTE
 சிம்கட்டி கட்டுவது எது/எவை சரி?
 சிம்கட்டி சிம்கட்டி கட்டுவது, சிம்கட்டி
 கட்டு (variable) கட்டுவது, சிம்கட்டி
 கட்டுவது சிம்கட்டி, சிம்கட்டி '0' கட்டுவது
 சிம்கட்டி கட்டுவது சிம்கட்டி கட்டுவது
 சிம்கட்டி கட்டுவது சிம்கட்டி கட்டுவது

(A) (i), (ii), (iii) மற்றும் (iv) (B) (i), (iii) மற்றும் (iv) கட்டுவது
 (C) (i) மற்றும் (iv) கட்டுவது **(D) (iii) மற்றும் (iv) கட்டுவது**

er

23

GT714
 [Turn over

83. If '+' means 'x', '-' means '+', 'x' means '+' and '+' means '-' then the value of $84 \times 25 + 6 - 10 - 9 =$

- (A) 23 (B) 22
(C) 30 (D) 26

'+' என்பது 'x', '-' என்பது '+', 'x' என்பது '+' மற்றும் '+' என்பது '-' எனில் $84 \times 25 + 6 - 10 - 9$ மதிப்பு

- (A) 23 (B) 22
(C) 30 (D) 26

RADIAN IAS ACADEMY
711 PH Road, Opp. Anna Arch
NSK Nagar, Chennai - 600 106
Ph: 98404 00825, 09627 00508
www.radiannews.pbworks.com

84. Consider the following statements.

- I. The sun is a medium sized star
- II. It is about two billion years old
- III. It consist of almost entirely of hydrogen and helium

Which of the statements given above is/are correct?

- (A) I only
(B) I and II
(C) I and III
(D) I, II and III

Life of Sun - approx 4.5 billion years
Total life span of Sun - 10 billion years
Sun occupies 99.8% of mass of entire solar system.

கொடுக்கப்பட்டிருக்கின்ற வாக்கியங்களை கவனி.

- I. சூரியன் நடுத்தர அளவு கொண்ட நட்சத்திரம்
- II. ஏறத்தாழ இரண்டு பில்லியன் ஆண்டுகள் வயது கொண்டது
- III. சூரியன் கிட்டத்தட்ட முற்றும் ஹீலியம் வாயுவால் பெரும்பகுதி அமைந்துள்ளது

மேலே கொடுக்கப்பட்டிருக்கின்ற வாக்கியங்களில் எத்தனை வாக்கியம் / வாக்கியங்கள் உண்மை?

- (A) I மட்டும்
(B) I மற்றும் II
(C) I மற்றும் III
(D) I, II மற்றும் III

GT714

24

85. In Tamil Nadu Sanctuary for Peacock is located at

- (A) Madurai (B) Pathakottai
(C) Viralmalai (D) Tanjore

தமிழகத்தில் மயில்வளையான காப்பகம் அமைந்துள்ள இடம்

- (A) மதுரை (B) பாதகொட்டை
(C) விர்லமலை (D) தஞ்சை

86. Match the correct answers:

- | | |
|--|----------------------------|
| (a) Haemophilia, Albinism, Thalasimias | 1. Vector borne diseases |
| (b) Diabetes, Sterility, Obesity | 2. Deficiency of nutrients |
| (c) Nictolopia, Rickets, Scurvy | 3. Deficiency of Hormones |
| (d) Malaria, Filaria, Influenza | 4. Genetic disorder |

Diabetes - Deficiency of insulin
Obesity - Lower level of Thyroid secretion
Sterility - If there is no secretion of spermatozoa from the Gonads

- | | | | |
|-------|-----|-----|-----|
| (a) | (b) | (c) | (d) |
| (A) 4 | 3 | 1 | 2 |
| (B) 3 | 2 | 4 | 1 |
| (C) 4 | 3 | 2 | 1 |
| (D) 1 | 2 | 3 | 4 |

சரியான விடைகளை பொருத்து.

- | | |
|--|--|
| (a) ஹீமோபிலியா, அல்பினிசம், தாலாசிமிசா | 1. உட்கிணர் குறைபாடு நோய்கள் |
| (b) டயாபீட்டீஸ், மரபணுக்கறை, உடல் பருமல் | 2. ஊட்டப்பொருள் குறைபாட்டினால் ஏற்படுகின்ற நோய்கள் |
| (c) நிக்டலோபியா, ரிகெட்ஸ், ஸ்கர்விய | 3. ஹார்மோன் குறைபாட்டினால் ஏற்படுகின்ற நோய்கள் |
| (d) மலேரியா, ஃலாரியா, இன்஫ூன்ஸா | 4. மரபியல் குறைபாட்டினால் ஏற்படுகின்ற நோய்கள் |

Albinism - inherited disorder of melanin metabolism characterised by absence of melanin of skin, hair & eyes
Thalassemia - erythroblastic anaemia due to homozygous recessive gene expression in children

GT714 [Turn over

Lymphatic filariasis - infection with filarial worms *Wuchereria bancrofti* (90% of cases), *Brugia malayi* or *B. timori*. Elephantiasis sign of late stage disease - Transmitted by diff types of mosquito

Refractive index = $\frac{\text{velocity of light in vacuum} \Rightarrow 300,000 \text{ km/sec}}{\text{velocity of light in medium}}$

87. Refractive index of a diamond is 2.42. Its meaning with respect to velocity of light is
- Velocity of light in diamond is more than the velocity of light in air
 - Velocity of light in diamond is less than the velocity of light in air
 - Velocity of light in diamond and air is one and the same
 - Velocity of light in air is more than the velocity of light in diamond
- (A) I and IV is correct (B) III alone is correct
 (C) II and IV is correct (D) I alone is correct

μ for air = approx 1 $\mu \propto \frac{1}{\text{velocity of light in medium}}$

கொத்திசை ஒளிவிலகல் எண் 2.42 ஒளிவீகம் திசைவேகத்தைப் பொறுத்து இவ்வெண்ணின் பொருள் என்ன?

- ஒளிவீகத்தை காற்றை விட, கொத்திசை அதில் திசைவேகத்தில் செல்கிறது
 - ஒளிவீகத்தை காற்றை விட, கொத்திசை காற்றை திசைவேகத்தில் செல்கிறது
 - காற்றை மீறும் கொத்திசை இரண்டிலும் ஒளிவீகம் திசைவேகம் எண்
 - ஒளிவீகத்தை காற்றை விட, காற்றில் அதில் திசைவேகத்துடன் செல்கிறது
- (A) I மட்டும் IV ன் (B) III மட்டும் ன்
 (C) II மட்டும் IV ன் (D) I மட்டும் ன்

88. With reference to the meaning of index number in statistics consider the following statements

- An index number is a statistical tool used to measure changes over time and to interpret economic figures
- Index numbers are values expressed as a percentage of single base figures.

Which of the statements given above is /are correct?

- (A) I statement only (B) II statement only
 (C) Both I and II statements (D) Neither I nor II statement

புள்ளியியலில், குறிப்பிட்ட ஆண்டுகளில் பொருள் விலைகளை இரண்டு ஆண்டுகளை பரிசீலனை செய்க.

- குறிப்பிட்ட ஆண்டுகள் என்பது காலப்பகுதியை, பெ ஏற்பாடு மற்றும் மாற்றங்களை அளவிடவும் பொருளியல் விலைகளுக்கு விவரம் அளிக்கவும் பயன்படும் கருவியாகும்
- குறிப்பிட்ட ஆண்டுகள், மதிப்பீடுகளை ஒப்பிடுகின்ற குறிப்பிட்ட ஒரு ஆண்டை விசேஷமாக ஆகும் மேலும் குறிப்பிட்ட ஆண்டுகளில் ஏது ன் என குறிப்பிடுக.

- (A) I கற்று மட்டும் (B) II கற்று மட்டும்
 (C) I மற்றும் II வறு கற்று ன் (D) I-ல் அல்ல II-ல் அல்ல (கற்று ன்)

GT714

89. "The queen of drugs" refers to

- (A) penicillin - also "wonder drug"
 (B) streptomycin - Alexander Fleming in 1928 from penicillium notatum
 (C) aureomycin
 (D) chloromycetin - nobel prize in 1945

"மருந்துகளின் அரசி" என்று குறிப்பிடுகிறது

- (A) பெனசிலின்
 (B) ஸ்ட்ரெப்டோமைசின்
 (C) ஆரோமைசின்
 (D) குளோமைசின்

90. Arrange the stages of respiration in a logic way,

- Electron transport chain ④
 - Glycolysis ① pyruvic acid - end product of glycolysis
 - Kreb's cycle ③ gives oxalo acetate & enters krebs cycle
 - Oxidative decarboxylation of pyruvic acid ②
- (A) I, II, III, IV (B) II, IV, III, I
 (C) I, II, IV, III (D) III, IV, II, I

சுவாசத்தின் கட்டம் நியூசெலரை விவரம் வரிசைப்படுத்துக.

- எலக்ட்ரான் சுழற்சி
 - கிளைசோலிசிஸ்
 - கிரேய் சுழற்சி
 - பைரூவிக் அமில ஆக்சிஜனேற்ற கிளைசோலிசிஸ்
- (A) I, II, III, IV (B) II, IV, III, I
 (C) I, II, IV, III (D) III, IV, II, I

er

GT714
 [Turn over

91. Which article of the Indian constitution deals with Right to Education?

- (A) Art. 20 (A)
- (B) Art. 21 (A) - 86th AA, 2002
- (C) Art. 19 (A)
- (D) Art. 22 (A)

இந்திய அரசியலமைப்பு கட்டுப்பாட்டு உள்ளிட்ட உயர் சட்ட ஆய்விதழைப்படி கட்டுப் செய்யப்பட்டுள்ள உயர் சட்டத்தின் கீழ் எந்த ஆய்விதழைப்படி கட்டுப் செய்யப்பட்டுள்ளது?

- (A) Art. 20 (A)
- (B) Art. 21 (A)
- (C) Art. 19 (A)
- (D) Art. 22 (A)

92. World's most powerful telescope ALMA becomes operational on March 2013 in

- (A) China
- (B) Chile *Atacama Large Millimeter Array*
- (C) New York
- (D) London

உலகின் மிகக் கூடுதல் திறவுகலம் அல்லது கண்டெடுப்பாளர் மார்ச் 2013 இல் செயல்படத் தொடங்கியது

- (A) சீனா
- (B) சீலை
- (C) நியூயார்க்
- (D) லண்டன்

93. How many languages are there in Eighth Schedule of Indian Constitution?

- (A) 18
- (B) 22
- (C) 20
- (D) 24

இந்திய அரசியலமைப்பு கட்டுப்பாட்டு உள்ளிட்ட உயர் சட்ட ஆய்விதழைப்படி கட்டுப்பாட்டு செய்யப்பட்டுள்ள உயர் சட்டத்தின் கீழ் எந்த ஆய்விதழைப்படி கட்டுப்பாட்டு செய்யப்பட்டுள்ளது?

- (A) 18
- (B) 22
- (C) 20
- (D) 24

GT714

94. Money Bills can be delayed by the Rajya Sabha only for

- (A) 30 days
- (B) 15 days
- (C) 20 days
- (D) 14 days

நிதி மசோதையை மாநில அசைப்புகளால் சீர்குலைக்க முடியும் நாட்களின் எண்ணிக்கையை குறைக்க முடியுமா?

- (A) 30 நாட்கள்
- (B) 15 நாட்கள்
- (C) 20 நாட்கள்
- (D) 14 நாட்கள்

95. Usually the population of Corporation is

- (A) 5 lakhs
- (B) 7 lakhs
- (C) 8 lakhs
- (D) 10 lakhs

அரசாங்கப் பகுதி நகராட்சி மன்றங்களில் மக்களின் எண்ணிக்கை

- (A) 5 லட்சம்
- (B) 7 லட்சம்
- (C) 8 லட்சம்
- (D) 10 லட்சம்

96. The Election Commissioners are appointed by the

- (A) Prime Minister
- (B) Governor
- (C) President of India
- (D) Council of Ministers

சேர்தல் ஆணையர்கள் இயற்கை நிமிஷம் குடிநீர் இயற்கை

- (A) பிரதமர்
- (B) ஆளுநர்
- (C) இந்தியக் குடியரசின் தலைவர்
- (D) அமைச்சரவைக் குழு

97. Consider the following :

Assertion (A) : In the first half of the 19th century revolutionary groups sprang up mainly in Bengal, Maharashtra, Punjab and Madras.

Reason (R) : The revolutionaries were not satisfied with the methods of both moderates and extremists.

Now select your answer according to the coding scheme given below :

- (A) Both (A) and (R) are true and (R) is the correct explanation of (A)
- (B) Both (A) and (R) are true, but (R) is not correct explanation of (A)
- (C) (A) is true; but (R) is false
- (D) (A) is false; but (R) is true

தீர்மானம்: அம்சம்/காரணம் சம்பந்தம் :

கருத்து (A) : 19-ம் நூற்றாண்டின் முற்பகுதியில் வங்காளம், மகாராஷ்டிரம், பஞ்சாப் மற்றும் மெட்ராஸ் ஆகிய பகுதிகளில் புரட்சிவாத குழுக்கள் தோன்றின.

காரணம் (R) : கிழவாத, தீவிரவாத மொழிகளால் இரண்டினமே இயக்கத்தை உடன்பாடு இல்லாமல் இயங்கின சிபிவாத விவாத வாதத் தேர்ந்தெடுத்தது என்று.

- (A) (A) மற்றும் (R) சரியானது. மேலும் (R) என்பது (A)-யிற்கு சரியான விளக்கம்
- (B) (A) மற்றும் (R) சரியானது. ஆனால் (R) என்பது (A)-யிற்கு சரியான விளக்கமல்ல
- (C) (A) சரி, ஆனால் (R) தவறு
- (D) (A) தவறு, ஆனால் (R) சரி

GT714

or

98. Arrange the following statements in chronological order :

- I. The first round table conference was held in London. **Nov 1930 - Jan 1931**
 - II. The non Co-operation movement was abruptly called off by Gandhiji, following the Chauri Chaura Incident. **Feb 12, 1922**
 - III. The resignation of Congress Ministry was celebrated as Deliverance Day by Muslim League. **Dec 22, 1939**
 - IV. The Cabinet Mission put forward a plan for solution of the Constitutional Problem. **1946**
- (A) I, II, IV, III
(B) II, I, III, IV
(C) III, I, II, IV
(D) IV, III, I, II

தீர்மானம்: அம்சம்/காரணம் சம்பந்தம் :

- I. முதல் வட்ட மேசை மாநாடு லண்டனில் நடைபெற்றது.
 - II. ஒத்துழைப்பு இயக்கத்தை காங்கிரஸ் தீவிரவாதிகள் தடை செய்து கர்ச்சிவாடிக்கால் இடைநிறுத்தியது.
 - III. காங்கிரஸ் அமைச்சரவைகள் பதவி விலகலை, முஸ்லிம் லீக் கீழ்த்தரமான தரமாகக் கொண்டுவந்தது.
 - IV. கானிங் குழு குழு இந்தியாவின் அரசியலமைப்பு சீர்திருத்த குழு தீர்மானம் முன் வைத்தது.
- (A) I, II, IV, III
(B) II, I, III, IV
(C) III, I, II, IV
(D) IV, III, I, II

99. Consider the following statement :

- I. As per Queen's Proclamation, Lord Canning announced the new Government at **in Bikaner - Jahanabad** in 1858. **In Allahabad**
- II. The Queen's Proclamation called the "Magna Carta" of Indian people.

Which statement is/are correct?

- (A) I only
- (B) II only
- (C) Both I and II
- (D) Neither I nor II

தீர்மானம்: அம்சம்/காரணம் சம்பந்தம் :

- I. கெரால்டின் அறிக்கையை 1858 "இலாண்டன்" என்ற இடத்தில் அங்கீகரிக்கப்பட்டது.
- II. கெரால்டின் அறிக்கை இந்திய மக்களின் "மெக்னா கார்ட்டா" என்று அழைக்கப்படுகிறது.

இவற்றில் எது/எவை சரி?

- (A) I மட்டும்
- (B) II மட்டும்
- (C) I மற்றும் II
- (D) இவ்விருவரும் இல்லை

or

GT714
[Turn over

100. Consider the following :

Assertion (A) : The Revolt of 1857 ended an era and sowed the seeds of a new one.

Reason (R) : Strengthen the British paramountcy.

Now select your answer according to the coding scheme given below :

- (A) Both (A) and (R) are true and (R) is the correct explanation of (A)
- (B) Both (A) and (R) are true, but (R) is not the correct explanation of (A)
- (C) (A) is true, but (R) is false
- (D) (A) is false, but (R) is true

இந்தக் கேள்விக்குரிய கருத்துகள்:

கருத்து (A) : இந்திய வரலாற்றில் 1857 ஆம் ஆண்டு ஆரம்பம் ஒரு காலகட்டம் முடிவாகி மற்றொரு காலகட்டம் தொடங்கியதைக் குறிப்பிடுகிறது.

காரணம் (R) : பிரிட்டிஷர்களின் ஆதிக்கத்தை வலிமை செய்தது.

இவற்றைச் சரியான விடையைத் தேர்ந்தெடுத்து எழுது.

- (A) (A) மற்றும் (R) இரண்டும் சரி. காரணம் (R) என்பது (A)-யின் சரியான விளக்கம்
- (B) (A) மற்றும் (R) இரண்டும் சரி. காரணம் (R) என்பது (A)-யின் சரியான விளக்கமல்ல
- (C) (A) சரி, ஆனால் (R) தவறு
- (D) (A) தவறு, ஆனால் (R) சரி

GT714

32

or

101. 'The Hindus and the Muslims are two eyes of the beautiful bird that was India'. Whose comment it was?

- (A) Jothi Bapule
- (B) Sir Syed Ahmad Khan
- (C) Nawab Salimullah
- (D) Muhamad Ali Jinnah

இந்தக் கருத்து, மும்பைக்குரிய இந்தியர் எம்.சி.ஐ. அஹ்மத் அலி ஜின்னாவின் கருத்து என்று கூறுபவர்?

- (A) ஜோதிப்பாபுலே
- (B) சர் சயீது அஹ்மத்
- (C) நவாப் சலிமுல்லா
- (D) முஹம்மது அலி ஜின்னா

102. Which one of the following pair is correctly matched?

Dynasties	Rulers
(A) Chera	- Karikala
(B) Chola	- Simuka
<input checked="" type="radio"/> (C) Pandya	- Nedunchezhian
(D) Satavahana	- Senguttivan

பின்வருமாறுள்ளவற்றைச் சரியான முறையில் பொருத்தப்பட்டு, தேர்வு எது?

சூர்ய	ஆட்சியாளர்கள்
(A) சேரர்	- கரிகாலன்
(B) சோழர்	- சிமுகா
<input checked="" type="radio"/> (C) பாண்டியர்	- நெடுஞ்செழியன்
(D) சாத்தவாஹன்	- செங்குட்டுவன்

or

33

GT714
[Turn over

103. Marriage Assistance to the male members provided by which scheme?

- (A) Gold for Tali
- (B) Chief Minister Ughavar Padbukappu Thittam ; 3DI1
- (C) Piousless (hot) and saree scheme
- (D) Pudia Vazhu Thittam

ஆண்களுக்கான திருமண உதவி திட்டம் எந்த திட்டத்தில் கீழ் வழங்கப்படுகிறது?

- (A) தலைக்கு தங்கம்
- (B) முதலமைச்சரின் உழவர் பாதகாப்பு திட்டம்
- (C) விதவையினர் வேட்டி, சேலை வழங்கும் திட்டம்
- (D) புது வாழ்வு திட்டம்

104. The Government of India enacted the Disaster Management Act in _____ year.

- (A) 2005
- (B) 2004
- (C) 2006
- (D) 2009

இந்திய அரசாங்கம் பேரிடர் மேலாண்மை சட்டம் இயற்றப்பட்டது _____ வருடத்தில்

- (A) 2005
- (B) 2004
- (C) 2006
- (D) 2009

105. Who is the District Registrar of Birth and Death?

- (A) District Collector
- (B) District Revenue Officer
- (C) District Supply Officer
- (D) District Social Welfare Officer

மாநில அரசாங்கம் பிறப்பு மற்றும் இறப்புகளை பதிவு செய்கும் அலுவலர் யார்?

- (A) மாநில ஆட்சியர்
- (B) மாநில வருவாய் அலுவலர்
- (C) மாநில வழங்கல் அலுவலர்
- (D) மாநில சமூக நல அலுவலர்

GT714

34

e

106. Among the irrigation sources, water available from 5 to 8 months comes under which one of the following category?

- (A) First class
- (B) Fourth class
- (C) Fifth class
- (D) Third class

5 முதல் 8 மாதங்களுக்கு நீர் பெறக்கூடிய பரமான ஆதாரங்கள் கீழ்க்கண்டவற்றுள் எந்த வகுப்பில் கீழ் வகைப்படுத்தப்பட்டுள்ளது?

- (A) முதல் வகுப்பு
- (B) நான்காம் வகுப்பு
- (C) ஐந்தாம் வகுப்பு
- (D) மூன்றாம் வகுப்பு

107. Village account No 24 deals with

- (A) Annual rainfall details
- (B) Birth and death details
- (C) Annual mines register
- (D) Cattles register

கிராமக்கணக்கு எண் 24 ஏதாவது பற்றியது?

- (A) வருடாந்திர மழைக்கணக்கு
- (B) பிறப்பு மற்றும் இறப்பு குறிப்புகள்
- (C) கனிம வளத்தை பதிவு செய்யும் ஆண்டுப் பதிவேடு
- (D) கன்றகடிகள் பதிவேடு

108. The annual average rainfall to Tamilnadu is

- (A) 979 mm
- (B) 969 mm
- (C) 989 mm
- (D) 999 mm

தமிழ்நாட்டில் ஒரு ஆண்டின் சராசரி மழையளவு

- (A) 979 மி.மீ.
- (B) 969 மி.மீ.
- (C) 989 மி.மீ.
- (D) 999 மி.மீ.

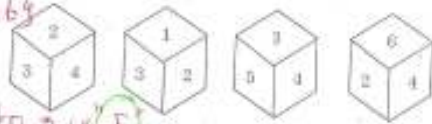
er

35

GT714
[Turn over

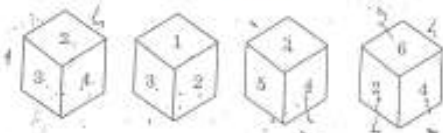
109. Which number comes opposite to 2?

Adjacent sides of "2" = {3, 4, 1, 6}



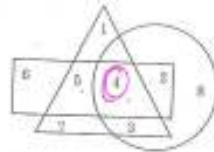
- opposite to 2 is 5
- (A) 3 (B) 6
(C) 4 (D) 5

கனகரூப லக்கள்களில் 2-க்கு எதிரில் வரும் எண் எது?



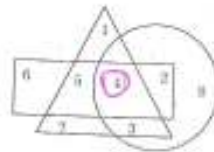
- (A) 3 (B) 6
(C) 4 (D) 5

110. Which number is seen in all the diagrams?



- (A) 3 (B) 7
(C) 4 (D) 8

எந்த எண் எல்லா வடிவங்களிலும் இருக்கிறது?



- (A) 3 (B) 7
(C) 4 (D) 8

GT714

36

111. If the ratio of the ages of son and father in 2014 and 2022 are 1 : 4 and 3 : 8 respectively, then the sum of the ages of son and father in 2010 is

- (A) 42 (B) 43
(C) 50 (D) 45

2014: $\frac{x}{4x}$
2022: $\frac{x+8}{4x+8} = \frac{3}{8} \Rightarrow 8x+64 = 12x+24 \Rightarrow x=10$

2014 மற்றும் 2022-ல் ஆகை மகன் மற்றும் தந்தை ஆகியவரின் வயதுகளில் எதிர்த்தகை விகிதம் 1 : 4 மற்றும் 3 : 8 எனில் 2010-ல் ஆகை ஆகை மகன் மற்றும் தந்தை ஆகியவரின் வயதுகளின் கூடுதல்

- (A) 42 (B) 43
(C) 50 (D) 45

4 years back $54 - 8 = 46$

112. Find the volume of a largest sphere inscribed from the right circular cylindrical wood whose radius is 1 cm. and height is 5 cm.

- (A) $\frac{4}{3} \pi \text{ cm}^3$ (B) $\frac{5}{16} \pi \text{ cm}^3$
(C) $5 \pi \text{ cm}^3$ (D) $8 \pi \text{ cm}^3$



Volume: $\frac{4}{3} \times \pi \times 1^3 = \frac{4}{3} \pi$

1 செ.மீ ஆரம், 5 செ.மீ உயரம் கொண்ட, சதுர அடிப்படையில் இருந்து செட்டி அடுக்கப்பட்ட இயற்கையான செம்புக்கம்பின் மொத்த கனம்

- (A) $\frac{4}{3} \pi \text{ cm}^3$ (B) $\frac{5}{16} \pi \text{ cm}^3$
(C) $5 \pi \text{ cm}^3$ (D) $8 \pi \text{ cm}^3$

113. The average of five numbers is 20. If we eliminate one number from it, the average will be reduced by 5. What is the number eliminated?

- (A) 5 (B) 40
(C) 20 (D) 15

$\frac{20 \times 5 - x}{4} = 15 \Rightarrow 100 - x = 60 \Rightarrow x = 40$

5 எண்களின் சராசரி 20. அதில் இருந்து ஒரு எண்ணை நீக்கினால் சராசரி 5 குறைகிறது எனில், நீக்கப்பட்ட எண்ணின் மதிப்பு

- (A) 5 (B) 40
(C) 20 (D) 15

er

37

GT714
[Turn over

114. Seasonal changes are caused due to the following reasons.
- (A) Earth revolves round the sun in an orbital path
 - (B) Earth revolves round the sun as it rotates itself
 - (C) Earth is tilted 23½° revolves round the sun
 - (D) Earth takes 365½ days to complete revolution around the sun

பருவநிலை மாற்றங்கள் ஏற்படுவதற்கான காரணத்தினால் ஏற்படுகின்றன.

- (A) புவியை சுற்றி சூரியனை திரும்பிப் பார்ப்பதில் காரணமாகிறது
- (B) புவியை சுற்றி சூரியனை திரும்பிப் பார்ப்பதுடன் புவியே சுழலும்
- (C) புவியை 23½° மட்டும் சூரியனை சுற்றி வருவதால்
- (D) புவியை சுற்றி 365½ நாட்கள் காலம் எடுத்துக் கொள்வதால்

115. Choose the correct answer.

Horizontal movement of sea water at the Ocean's surface is

- (A) Waves
- (B) Tides
- (C) Currents
- (D) Either waves or currents

சமீபத்தில் கடல் மட்டத்தில் நேரத்தெரிசல்கள்

கடல் மட்டத்தில் நேரத்தெரிசல்கள் கடல் மட்டத்தில் நேரத்தெரிசல்கள்

- (A) அலைகள்
- (B) திடீர்கள்
- (C) திசைநிலைகள்
- (D) அலைகள் அல்லது திசைநிலைகள்

116. The technique that reduces the amount of water consumption in crop cultivation

- (A) Hydroponics - soilless agriculture
- (B) Automated Irrigation
- (C) Macro Irrigation
- (D) Micro Irrigation

விவசாயத்தில் குறைந்த அளவு நீர் செலவைக் குறைக்க உதவும் முறை

- (A) ஹைட்ரோபோனிக்ஸ்
- (B) தானியமாதல் திட்டம்
- (C) பெரிய அளவு நீர்நிலை
- (D) சிறிய அளவு நீர்நிலை

GT714

38

Diamond does not conduct electricity
Graphite & Diamond Allotropes of carbon

117. Consider the following statement (Similar qn asked in TNPSG Group I)

- I. Graphite is a good conductor of electricity 2013 problem
- II. Diamond is very hard and has high melting point and boiling point
- III. Solid carbon monoxide is known as dry ice = Solid CO₂ - dry ice
- IV. Carbonic acid turns red litmus slightly blue Blue to Red - Acid

Which of the above statement is/are correct?

- (A) I and III are correct
- (B) II and III are correct
- (C) I and II are correct
- (D) III and IV are correct

Allotropy - an element is found in different forms having diff physical properties but some chemical properties

- I. கரிமம், கரிமம் கரிமம் கரிமம் Phosphorus, sulphur, carbon exhibit allotropy
- II. கரிமம் கரிமம் கரிமம் கரிமம் கரிமம் கரிமம் கரிமம் கரிமம்
- III. கரிமம் கரிமம் கரிமம் கரிமம் கரிமம் கரிமம் கரிமம் கரிமம்
- IV. கரிமம் கரிமம் கரிமம் கரிமம் கரிமம் கரிமம் கரிமம் கரிமம்

118. Which one of the following is correct example for isobars? → diff element, same

- (A) ¹¹Cl¹⁷, ¹¹Cl³⁷ - Isotopes
- (B) ⁴⁰Ar¹⁸, ⁴⁰Ca²⁰ mass no, diff atomic no.
- (C) ¹H¹, ¹H² - Isotopes
- (D) ¹⁴C⁶, ¹⁴N⁷ - Isotones

Isotopes - Atoms having same atomic no but diff mass no of the same element
Isotones - Same no of neutrons in different elements

- (A) ¹¹Cl¹⁷, ¹¹Cl³⁷
- (B) ⁴⁰Ar¹⁸, ⁴⁰Ca²⁰
- (C) ¹H¹, ¹H²
- (D) ¹⁴C⁶, ¹⁴N⁷

119. pH values of 0.01 M HCl and 0.01 M NaOH solutions are

- (A) 2 and 7
- (B) 2 and 12
- (C) 13 and 1
- (D) 3 and 11

0.01 M HCl காரம் மற்றும் 0.01 M NaOH காரம் தரப்பட்டிருக்கிறது. இவற்றின் pH மதிப்புகள் காண்க.

- (A) 2 மற்றும் 7
- (B) 2 மற்றும் 12
- (C) 13 மற்றும் 1
- (D) 3 மற்றும் 11

$$pH = -\log_{10} [H^+]$$

$$= -\log_{10} [0.01]$$

$$= -\log_{10} 10^{-2}$$

$$= -(-2) \log_{10} 10 = 2$$

$$pOH = -\log_{10} [OH^-]$$

$$= 2$$

$$pOH + pH = 14 \quad (7+7)$$

$$pH = 14 - 2 = 12$$

GT714
[Turn over]

120. Every bank has to keep certain minimum cash balance with RBI is called

- (A) Variable Reserve Ratio
- (B) Cash Reserve Ratio
- (C) Cash Discount Ratio
- (D) Trade Discount Ratio

இந்திய வங்கிகள் வங்கியுடன் ஒரு குறிப்பிட்ட தொகையை வைக்க வேண்டிய அளவைக் குறிப்பிடுகிறது.

- (A) மாறுபட்ட இலாப விகிதம்
- (B) நகலி வைப்பு விகிதம்
- (C) நகலி தள்ளுபடி விகிதம்
- (D) வணிக இலாப விகிதம்

121. Match

- | | |
|---------------------------|--------------------------------|
| (a) First Five Year Plan | 1. Eradication of poverty |
| (b) Second Five Year Plan | 2. Equality and Social Justice |
| (c) Fifth Five Year Plan | 3. Industrial Development |
| (d) Tenth Five Year Plan | 4. Agriculture |

- | | | | | |
|--------------------------------------|-----|-----|-----|-----|
| <input checked="" type="radio"/> (A) | (a) | (b) | (c) | (d) |
| | 4 | 3 | 1 | 2 |
| (B) | 2 | 1 | 3 | 4 |
| (C) | 1 | 3 | 4 | 2 |
| (D) | 2 | 4 | 1 | 3 |

பொருத்தம்:

- | | |
|-------------------------------------|--------------------------------|
| (a) முதல் ஐந்து ஆண்டுகள் திட்டம் | 1. வறுமையை ஒழிப்பு |
| (b) இரண்டாம் ஐந்து ஆண்டுகள் திட்டம் | 2. சமத்துவம் மற்றும் சமூக நீதி |
| (c) ஐந்தாம் ஐந்து ஆண்டுகள் திட்டம் | 3. தொழிற்துறை வளர்ச்சி |
| (d) பத்தாம் ஐந்து ஆண்டுகள் திட்டம் | 4. வேளாண்மை |

- | | | | | |
|--------------------------------------|-----|-----|-----|-----|
| <input checked="" type="radio"/> (A) | (a) | (b) | (c) | (d) |
| | 4 | 3 | 1 | 2 |
| (B) | 2 | 1 | 3 | 4 |
| (C) | 1 | 3 | 4 | 2 |
| (D) | 2 | 4 | 1 | 3 |

GT714

122. The cell division results in four daughter cells each having half the number of chromosomes of the parent cell and are called gametes. This type of cell division is

- (A) mitosis *one diploid zygote (2n) → 4 Haploid cells (n)*
- (B) amitosis *reduced to half*
- (C) meiosis - also called reduction division
- (D) karyokinesis

செல் வகிப்பு முடிந்த பின்னர் நான்கு மகப்பெண் செல்கள் உண்டாகின்றன. இவற்றில் ஒவ்வொன்றும் பெற்றோர் செல்லின் அரை அளவு கromosome-களைக் கொண்டிருக்கும். இத்தகைய செல் வகிப்பு ———— என்று அழைக்கப்படும்.

- (A) மைட்டோசிஸ்
- (B) அமைட்டோசிஸ்
- (C) மையோசிஸ்
- (D) கரையோசிசிஸ்

123. Zero hour is the innovation in the parliamentary procedure of

- (A) UK - 1962
- (B) USA - time gap between question hour and the agenda of the day
- (C) India - informal device
- (D) France

பாராளுமன்ற நடைமுறைகளில் பூஜ்ய மணி என்பது ———— என்று அழைக்கப்படுகிறது.

- (A) இங்கிலாந்து
- (B) அமெரிக்க நாடுகள்
- (C) இந்தியா
- (D) பிரான்சு

124. Who is Swaraj Paul?
- (A) Indian Industrialist based in United Kingdom
 - (B) Leader in Share Market
 - (C) Indian Cabinet Minister
 - (D) Chairperson of ISRO

சுவராஜ் பால் என்பவர் யார்?

- (A) இலங்கையிலிருந்து இந்தியா சென்றவர்
- (B) பங்கு சந்தைமீள் தலைவர்
- (C) இந்திய சர்க்கார் அமைச்சர்
- (D) இஸ்ரோமீள் தலைவர்

125. The use of 'i' knife in the medical field is 'Intelligent knife'

- (A) to detect the heart disease
- (B) to detect the volume of blood
- (C) to detect the cancer
- (D) to estimate the amount of sugar in blood

மருத்துவ துறையில் 'i' கத்திரி என்பது

- (A) இதய நோயைக் கண்டுபிடிக்க
- (B) இரத்தத்தின் கன அளவை கண்டுபிடிக்க
- (C) கேன்சர் நோயைக் கண்டுபிடிக்க
- (D) இரத்தத்திலுள்ள சர்க்கரையின் அளவை கண்டுபிடிக்க

126. Who was the first cinematographer to be chosen for Dada Saheb Phalke award?

- (A) Sriram
 - (B) Karan
 - (C) V.K. Moorthy - in 2008 - only cinematographer to win Dada Saheb Phalke Award
 - (D) Balakrishnan
- Passed away recently on April 7, 2014

தந்தை சாஹேப் பால்கே விருதுக்கு தேர்ந்தெடுக்கப்பட்ட முதல் திரைப்பட இயக்குநர் யார்?

- (A) சீராம்
- (B) கரன்
- (C) V.K. மூர்த்தி
- (D) பாலகிருஷ்ணன்

GT714

48

er

127. Match the following :

- | | |
|----------------------------------|----------------------|
| (a) Right to equality | 1. Art. 23 - Art. 24 |
| (b) Right to freedom | 2. Art. 19 - Art. 22 |
| (c) Right against exploitation | 3. Art. 25 - Art. 28 |
| (d) Right to freedom of religion | 4. Art. 14 - Art. 18 |

- | | | | |
|-------------|-----|-----|-----|
| (a) | (b) | (c) | (d) |
| (A) 4 2 1 3 | | | |
| (B) 4 2 3 1 | | | |
| (C) 1 2 3 4 | | | |
| (D) 4 3 2 1 | | | |

பொருத்து :

- | | |
|-------------------------------|--------------------------|
| (a) சமத்துவ உரிமை | 1. அமர்வு 23 - அமர்வு 24 |
| (b) சுதந்திர உரிமை | 2. அமர்வு 19 - அமர்வு 22 |
| (c) சுரண்டலுக்கு எதிரான உரிமை | 3. அமர்வு 25 - அமர்வு 28 |
| (d) மத சுதந்திர உரிமை | 4. அமர்வு 14 - அமர்வு 18 |

- | | | | |
|-------------|-----|-----|-----|
| (a) | (b) | (c) | (d) |
| (A) 4 2 1 3 | | | |
| (B) 4 2 3 1 | | | |
| (C) 1 2 3 4 | | | |
| (D) 4 3 2 1 | | | |

128. Which Article permits Separate Constitution for the state of Jammu-Kashmir?

- (A) Article-370
- (B) Article-390
- (C) Article-161
- (D) Article-356

ஒரு அரசியல் கிழி இயக்கு-சுயநிர்ணய தனி அரசியலமைப்பை வழங்குகிறது?

- (A) கிழி 370
- (B) கிழி 390
- (C) கிழி 161
- (D) கிழி 356

er

48

GT714
[Turn over

129. Match the following :

List I	List II
(a) Sardar Vallabhbhai Patel	1. First Governor General of India
(b) Dr. B.R. Ambedkar	2. Bismarck of India
(c) Lord Mountbatten	3. Swarajya Party
(d) Motilal Nehru	4. Drafting Committee of Constituent Assembly

(a)	(b)	(c)	(d)
(A) 2	4	1	3
(B) 1	2	3	4
(C) 4	3	2	1
(D) 3	2	1	4

செய்தல் :

பட்டியல் I	பட்டியல் II
(a) சர்தர் வல்லாபகி பட்டேல்	1. இந்தியாவின் முதல் ஆளுநர் பதவியை
(b) டி. பி. ஏ. அம்பேத்கர்	2. இந்திய பிசுமர்க்
(c) லார்ட் மவுண்ட்பட்டன்	3. சுவராஜ்யக் கட்சி
(d) மொதிலால் நேரு	4. சட்டமன்ற அமைப்பு குழுவின் தலைவர்

(a)	(b)	(c)	(d)
(A) 2	4	1	3
(B) 1	2	3	4
(C) 4	3	2	1
(D) 3	2	1	4

GT714

44

9

130. Which among the following is correctly matched?

(A) Lion of Punjab	-	Lala Lajpat Rai
(B) Frontier Gandhi	-	Muslim League
(C) Sardar Vallabhai Patel	-	First Governor general
(D) Motilal Nehru	-	Bismarck of India

கீழ்க்கண்டவற்றில் எது சரியாக பொருத்தப்படுகிறது?

(A) பஞ்சாப் சிங்கம்	-	லாலா லாஜபத்சாய்
(B) எல்லை காங்கிரஸ்	-	முஸ்லிம் லீக்
(C) சர்தர் வல்லாபகி பட்டேல்	-	முதல் ஆளுநர் பதவியை
(D) மொதிலால் நேரு	-	இந்தியாவின் பிசுமர்க்

131. Arrange the following period in chronological order :

I. Chauri Chaura incident. 1929	
II. Non-Cooperation movement. 1920	
III. Quit India movement. 1942	
IV. Dandi March 1930	
(A) II, I, IV and III	(B) III, IV, I and II
(C) II, IV, I and III	(D) II, III, IV and I

கீழ்க்கண்ட காலகட்டங்களை காலவரிசையில் அமைத்துக் கொடுக்க :

I. சௌரி சௌரா சம்பவம்	
II. ஒத்தொழிவு இயக்கம்	
III. வெளியேறுவதே சௌரியேறு	
IV. தாண்டி மார்ச்	
(A) II, I, IV மற்றும் III	(B) III, IV, I மற்றும் II
(C) II, IV, I மற்றும் III	(D) II, III, IV மற்றும் I

9

45

GT714
[Turn over

132. The celebration of Ganapathi and Shivaji festivals was revived by -

- (A) Gokhale
- (B) W.C. Banarjee
- (C) Tilak
- (D) Annie Besant

கனபதி மற்றும் சிவாஜி பண்டிகைகள் மீண்டும் கொண்டாடப்பட்டது குறிப்பிட்டு

- (A) கோகலே
- (B) டி.சி. பனார்ஜி
- (C) திலக
- (D) அன்னி பெசன்ட்

133. The most important factor leading to the rise of national movement was

- (A) Imperialism
- (B) Communism
- (C) Socialism
- (D) Mixed economy

இந்திய தேசியப் போட்டி, முக்கியமான காரணம்

- (A) அராஜகத்தியம்
- (B) சமூகம்
- (C) சமூகவாதம்
- (D) கலப்பட சமூகவாதம்

GT714

46

134. Which of the following statement is not correct?

- (A) Mohenjodaro means mound of the Dead
- (B) Indus valley people used burnt bricks
- (C) Indus valley civilization was a rural one. *x It's an urban civilisation*
- (D) Sir John Marshall is related to Indus valley civilization

கீழ்க்கண்ட கூற்றுகளில் தவறானது எது?

- (A) மொகன்ஜதாரோ என்பது மரணத்திற்கு இறந்தவர்களை மூடும் மounds
- (B) சிந்து மெசொலி மக்கள் சுட்டி, சாத்தெரிக்கப்பட்டிருந்தனர்
- (C) சிந்து மெசொலி நாகரீகம் ஒரு கிராமிய நாகரீகம்
- (D) சர் ஜான் மார்ஷல் சிந்து மெசொலி நாகரீகத்தை ஆராய்ந்தார்

135. Which one of the following is/are correctly matched?

- I. Village Account No. 10(I) - Chitta-showing the landholdings of each ryot with the assigned patta number
- II. Village Account No. 20 - Patta is a record showing landholdings of each ryot as assessment
- III. Village Account No. 11 - Rainfall statement
- (A) I and III (B) III only
- (C) I only (D) II and I

கீழ்க்கண்ட கூற்றுகள் சரியானவை சரியானவை குறிப்பிட்டு

- I. கிராம கணக்கு எண் 10(I) - பட்டாவரிக்கான நிலவரித் திட்டத்தினை காட்டுகின்ற பட்டாவரி
- II. கிராம கணக்கு எண் 20 - கணக்கு மூலக்கணக்கு குடிமகன்களின் பட்டாவரி
- III. கிராம கணக்கு எண் 11 - மழைக்கணக்கு
- (A) I மற்றும் III (B) III மட்டும்
- (C) I மட்டும் (D) II மற்றும் I

GT714

47

GT714
[Turn over

136. In general, the Trees, Buildings and Government poramboke lands are protected in a village by?

- (A) Village Administrative Officer
- (B) Public Welfare Officer
- (C) Building Inspector
- (D) Panchayat Secretary

பொதுமக்கள் மரங்கள், கட்டிடங்கள், அரசின் மரங்கள் ஆகியவை பாதுகாக்க பஞ்சாயத்து நிர்வாகிகள் மூலம் அங்கு செயல்படுத்தப்படுகின்றன. அவை யார்?

- (A) கிராம நிர்வாக அலுவலர்
- (B) மக்கள் நல அலுவலர்
- (C) கட்டிட அலுவலர்
- (D) பஞ்சாயத்து செயலர்

137. In Tamil Nadu, in which year Revenue Administration name is renamed as Revenue Administration and Disaster Management and Mitigation Department?

- (A) 2003
- (B) 2004
- (C) 2005
- (D) 2006

தமிழ்நாட்டில் வருமான நிர்வாக துறையின் பெயர் எந்த ஆண்டு வருமான நிர்வாக மற்றும் பேரிடர் மேலாண்மை மற்றும் தணிவு துறை என்று பெயர் மாற்றம் செய்யப்பட்டது?

- (A) 2003
- (B) 2004
- (C) 2005
- (D) 2006

138. In village Accounts, Account Number 20 deals with which one of the following?

- (A) Population
- (B) Rainfall
- (C) Epidemic diseases
- (D) Cattle pounds

கிராம கணக்குகளில், கணக்கு எண் : 20 என்பது பின்வருவனவற்றுள் எது குறிக்கப்படுகிறது?

- (A) மக்கள் தொகை
- (B) மழையளவு
- (C) தொற்று நோய்கள்
- (D) கால்நடை மரபுகள்

139. Which is the first state to introduce the Mass Contact Programme / Manu Neethi Thittam?

- (A) Gujarat
- (B) Tamil Nadu
- (C) Kerala
- (D) Madhya Pradesh

எந்த மாநிலத்தில் மறுத்தி தாம் திட்டம் குறைந்தது மீண்டும் கொண்டுவரப்பட்டது?

- (A) குஜராத்
- (B) தமிழ்நாடு
- (C) கேரளா
- (D) மத்தியப் பிரதேசம்

140. The average age of 50 students in 10th std class is 15 years. 10 more students are admitted fresh in the class and the average age is increased by 0.5 years. The average age of the newly joined students is

- (A) 15 (B) 16
(C) 17 (D) 18

$\Rightarrow 50 \times 15 + x = 15.5 \times 60$
 $\Rightarrow 750 + x = 930 \Rightarrow x = 180 \Rightarrow \bar{x} = 18$

10-ம் வகுப்பு மாணவர்களை 50 பேர் சேர்ந்த அகவை 15 ஆகும். 10 மாணவர்கள் புதிதாக சேர்க்கப்பட்டனர். அவர்களின் அகவை 0.5 ஆண்டு அதிகமாகிறது. புதிதாக சேர்க்கப்பட்ட மாணவர்களின் சராசரி அகவை:

- (A) 15 (B) 16
(C) 17 (D) 18

141. What percentage of students does not like computer science?

Subject	No. of students
Mathematics	6
Physics	12
Chemistry	15
Biology	8
Computer Science	9

$\frac{41}{50} \times 100 = 82\%$

- (A) 91% (B) 9%
(C) 82% (D) 18%

எத்தனை சதவீத மாணவர்கள் கணினி அறிவு விரும்பவில்லை?

பாடம்	மாணவர்களின் எண்ணிக்கை
கணிதம்	6
இயற்பியல்	12
வேதியியல்	15
உயிரியல்	8
கணினி அறிவு	9

- (A) 91% (B) 9%
(C) 82% (D) 18%

GT714

50

49

142. Two dice are thrown simultaneously. The probability of getting a doublet is

- (A) $\frac{1}{36}$ (B) $\frac{1}{3}$
(C) $\frac{1}{6}$ (D) $\frac{2}{3}$

$\frac{6}{36} = \frac{1}{6}$
(1,1) (2,2) (3,3) (4,4) (5,5) (6,6)

ஒரு குகத்தில் இரு பக்ககளை உருட்டப்படுகின்றன. பக்ககளை இரண்டு முகங்களிலும் ஒரே எண்ணாக இருக்க நிகழ்தகவு:

- (A) $\frac{1}{36}$ (B) $\frac{1}{3}$
(C) $\frac{1}{6}$ (D) $\frac{2}{3}$

143. The mean of the first n natural numbers

- (A) $\frac{n(n+1)}{2}$ (B) $\frac{n(n+1)(2n+1)}{2}$
(C) $\frac{n+1}{2}$ (D) n^2

முதல் 'n' இயல் எண்களின் சராசரி

- (A) $\frac{n(n+1)}{2}$ (B) $\frac{n(n+1)(2n+1)}{2}$
(C) $\frac{n+1}{2}$ (D) n^2

144. In a set of first 'x' natural numbers there are 30 prime numbers. Find the number of composite numbers in the above set.

- (A) $x-30$ (B) $30-x$
(C) $x-29$ (D) $x-31$

of first 'x' natural numbers, 1 is neither prime (not composite).

முதல் 'x' இயல் எண்களில் 30-ஐ விட அதிகமான அல்லது குறைவான எண்கள் கணினி அறிவு விரும்பவில்லை.

- (A) $x-30$ (B) $30-x$
(C) $x-29$ (D) $x-31$

$\therefore (x-1-30)$
are Composite
 $(x-31)$

49

51

GT714
[Turn over

145. Consider the following statements.

- I. Forests grow lush in areas where there are conditions such as high temperature, low rainfall and fertile soils.
 - II. Forests grow lush in areas where there are conditions such as high temperature and heavy rainfall throughout the year and fertile soils.
- Which of the statements given above is/are correct?

- (A) I only
- (B) II only
- (C) I and II only
- (D) I and II are wrong

கொடுக்கப்பட்டிருக்கின்ற கூற்றுகளைக் கவனி.

- I. காசிய வளர்ச்சிக்கு ஆதரவாக அமைப்பவை அதிக வெப்பம், குறைந்த மழைப் பெய்தல், சந்தையான ஆயுதப்பயல்களும்.
 - II. காசிய வளர்ச்சிக்கு ஆதரவாக அமைப்பவை அதிக வெப்பம், அதிக மழைப் பெய்தல், சந்தையான ஆயுதப்பயல்களும்.
- கொடுக்கப்பட்டிருக்கின்ற கூற்றுகளில் எது/எவை சரியானவை?

- (A) I மட்டும்
- (B) II மட்டும்
- (C) I, II மட்டும்
- (D) I மற்றும் II தான்

146. In Tamilnadu MRTS is seen in

- (A) Trichy
 - (B) Salem
 - (C) Chennai
 - (D) Thanjavur
- MRTS - Mass Rapid Transport System
1995

தமிழ்நாட்டில் எங்கே MRTS காணப்படுகிறது?

- (A) திருச்சி
- (B) சேலம்
- (C) சென்னை
- (D) தஞ்சாவூர்

GT714

52

er

147. Example of Rodenticides

- (A) DAP - Fertilizer
- (B) Zinc phosphate
- (C) Arsenic
- (D) (B) and (C)

எலி/செமிலி கொல்லிகள்

- (A) DAP
- (B) ஐந்தணை உயர்பெட்டி
- (C) அரிசனம்
- (D) (B) மற்றும் (C)

148. Egg beaters and drilling machines have long handles because

- I. It is easy to use
- II. A larger force applied at the handle results in large turning effect
- III. A smaller force applied at the handle results in large turning effect

- (A) I is correct [Similar qn asked in 24.02.2014 TNPSC exam General Studies]
- (B) III is correct
- (C) Both I and III is correct
- (D) II is correct

முட்டைகளை அடிக்கும் கருவி மற்றும் துளாவி போன்ற கருவிகளின் நீண்ட கையாடல் காரணம்

- I. பயன்படுத்தவது எளிது
- II. அதிகமான விசை திசுவிடல் செயல்படுகின்ற போது பெரிய திருப்ப விசையை அளிக்கும்
- III. சிறு விசை திசுவிடல் செயல்படுகின்ற போது பெரிய திருப்ப விசையை அளிக்கும்

- (A) I சரியானது
- (B) III சரியானது
- (C) I மற்றும் III சரி
- (D) II சரியானது

er

51

GT714
[Turn over

149. Inflation denotes the following situation ;

- (A) price level rises - money value falls
- (B) price level rises - money value rises
- (C) price level falls - money value falls
- (D) price level falls - money value rises

பணவிலக்கம் என்பது கீழ்க்கண்ட, நிலைமைகளை குறிக்கும் :

- (A) விலையளவி உயர்வு - பணத்தின் மதிப்பு வீழ்ச்சியும்
- (B) விலையளவி உயர்வு - பணத்தின் மதிப்பு உயர்வு
- (C) விலையளவி வீழ்ச்சியும் - பணத்தின் மதிப்பு வீழ்ச்சியும்
- (D) விலையளவி வீழ்ச்சியும் - பணத்தின் மதிப்பு உயர்வு

150. Consider the following statements and identify which one is not correct?

Inflation can be checked by some of the following measures :- Select the incorrect measure :-

- (A) increased taxation
- (B) increasing government expenditure
- (C) restrictions on imports
- (D) rationing

கீழ்க்கண்ட, அறிவுறுத்துவது சரியானது அல்ல தவிர்ப்பது :-

பணவிலக்கத்தைக் கட்டுப்படுத்த சில நடவடிக்கைகளை மேற்கொள்ளப்படும். கீழ்க்கண்ட, சரியானது அல்ல தவிர்ப்பது?

- (A) வரி விதிப்பை அதிகப்படுத்துதல்
- (B) அரசின் செலவை அதிகரித்தல்
- (C) இறக்குமதியைக் கட்டுப்பாடுகளை விதித்தல்
- (D) பொதுப் பங்கிடு

GT714

54

er

151. In which country 5th BRICS summit was held?

- (A) Russia BRICS - Brazil, Russia, India, China, South Africa
 - (B) Brazil
 - (C) India
 - (D) South Africa (Durban) BRIC
- summits
joined in 2010

1. 2009 - Yakaterinberg (Russia)
2. 2010 - Brasilia (Brazil)
3. 2011 - Sanya (China)
4. 2012 - New Delhi
5. 2013 - Durban (S. Africa)

5^{வது} BRICS உச்சிமன்றம் எந்த நாட்டில் நடைபெற்றது?

- (A) ரஷ்யா
- (B) பிரேசில்
- (C) இந்தியா
- (D) தென் ஆப்பிரிக்கா

152. Name the 27th State of Indian Union

- (A) Jharkhand - 28th
- (B) Uttarakhand - 27th
- (C) Chhattisgarh - 26th
- (D) Telangana - 29th

இந்திய ஒன்றியத்தின் 27^{வது} மாநிலத்தின் பெயர்

- (A) ஜார்க்கண்ட்
- (B) உத்தராச்சம்
- (C) சத்தீசுகர்
- (D) தெலங்காணா

153. The untraceable Malaysian Aeroplane is

- (A) MH 370
- (B) MA 730
- (C) MF 700
- (D) MJ 703

கிடைக்காத மலேசிய விமானம்

- (A) MH 370
- (B) MA 730
- (C) MF 700
- (D) MJ 703

er

55

GT714
[Turn over

154. Who is known as "Desert Fox"? - *nickname of world war II German Field Marshal Erwin Rommel*

- (A) Erwin Rommel
- (B) Bhagat Singh
- (C) Adolf Hitler
- (D) Benito Mussolini

"Desert Fox" என்று அழைக்கப்படுபவர் யார்?

- (A) எர்வின் ரொமேல்
- (B) பகத சிங்
- (C) அடல்ட் ஹிட்லர்
- (D) பெனிட்டு முசுசோலினி

155. The first political philosopher who separated and differentiated civil society from state

- (A) G.W.F. Hegel
- (B) Karl Marx
- (C) Fredrick Engels
- (D) Antonio Gramsci

முதலில் அரசாதிபைன அறியப்படுகின்ற சிவில் சமுதாயத்தை அரசியல் சித்திரப்படுத்தியவர்

- (A) G.W.F. ஹீகல்
- (B) கார்ல் மார்க்ஸ்
- (C) ஫ிரெடரிக் ஏன்ஸல்
- (D) ஆன்டோனியோ கிராமஸ்கி

156. Consider the following :

Assertion (A) : After the Independence in 1947, the most immediate and important task before the Indian leaders are two in number.

Reason (R) : One is the removal of poverty, secondly progress of education among the masses.

Now select your answer according to the coding scheme given below :

- (A) Both (A) and (R) are true and (R) is the correct explanation of (A)
- (B) Both (A) and (R) are true, but (R) is not the correct explanation of (A)
- (C) (A) is true, but (R) is false
- (D) (A) is false, but (R) is true

கீழ்க்கண்ட கூற்றுகளைக் கவனி :

கூற்று (A) : 1947-ல் இத்தியா விடுதலை அடைந்ததில் இத்தியக் தலைவர்கள் ஆற்ற வேண்டியிருந்த அமைச்சு பணிகள் இரண்டு.

காரணம் (R) : ஒன்று வறுமையை ஒழிப்பது, இரண்டு கல்வியைப் பரப்புவது.

இவற்றை சரியான விடையை தேர்ந்தெடுத்து எழுது.

- (A) (A) மற்றும் (R) இரண்டும் சரி, மேலும் (R) என்பது (A)-ஐ விளக்குகின்ற சரியான விளக்கமாகும்.
- (B) (A) மற்றும் (R) இரண்டும் சரி, மேலும் (R) என்பது (A)-ஐ விளக்குகின்ற சரியான விளக்கமாகும்.
- (C) (A) சரி, ஆனால் (R) தவறு.
- (D) (A) தவறு, ஆனால் (R) சரி.

157. Which period is called the era of Gandhiji?

- (A) 1885-1905
- (B) 1905-1918
- (C) 1920-1947
- (D) 1935-1947

காந்தி காலம் என்று அழைக்கப்படும் காலம்

- (A) 1885-1905
- (B) 1905-1918
- (C) 1920-1947
- (D) 1935-1947

158. Consider the following statements :

Assertion (A) : In August 1942 the Indian National Congress adopted the Quit India Resolution.

Reason (R) : The Cripps Mission proposals held promises for the future with no immediate concessions.

Now select your answer according to the coding scheme given below :

- (A) Both (A) and (R) are true but (R) is not the correct explanation of (A)
- (B) Both (A) and (R) are true, and (R) is the correct explanation of (A)
- (C) (A) is true, (R) is false
- (D) (A) is false, (R) is true

கீழ்க்கண்ட அக்கம்பெட்டிகள் கவனி :

கவறு (A) : 1942-ஆம் ஆண்டு ஆகஸ்டில் அகில இந்திய காங்கிரஸ் கட்சி 'Quit India Resolution' தீர்மானத்தை நிறைவேற்றியது.

காரணம் (R) : கிரிப்பஸ் திட்டம் குழுவின் பரிந்துரைகளில் உடனடிபடாத ஆதரவுகள் எதுவும் இல்லை.

இவற்றின் சரியான விடைகளைத் தேர்ந்தெடுக்க :

- (A) (A) மதறும் (R) இரண்டும் சரி ஆகும் (R) கம்பெறு (A)-஁ற்கு சரியான விளக்கம்
- (B) (A) மதறும் (R) இரண்டும் சரி மேலும் (R) கம்பெறு (A)-஁ற்கு சரியான விளக்கம்
- (C) (A) சரி ஆகும் (R) தவறு
- (D) (A) தவறு ஆகும் (R) சரி

GT714

58

er

159. Match List I with match List II correctly and select Ans.

List I	List II
(a) Indian National Congress	1. Moderates
(b) Dadabhai Naoroji	2. Indian Burke
(c) Madan Mohan Malaviya	3. Allan Octavian Hume
(d) Surendranath Banerjee	4. Grand old man

	(a)	(b)	(c)	(d)
(A)	3	2	4	1
(B)	1	2	3	4
<input checked="" type="radio"/> (C)	3	4	1	2
(D)	1	3	4	2

பட்டியல் I ஐ பட்டியல் II உடன் பொருத்தி சரியான விடைகளைத் தேர்ந்தெடு.

பட்டியல் I	பட்டியல் II
(a) இந்திய தேசிய காங்கிரஸ்	1. மிதவாதி
(b) தாதாபாய் நாரோஜி	2. இந்தியாவின் பகர்
(c) மதன் மோகன் மாலவியா	3. ஆரன் ஆக்டேவியன் ஹூம்
(d) சுரேந்திரநாத் பானர்ஜி	4. குறுபெரும் மனிதர்

	(a)	(b)	(c)	(d)
(A)	3	2	4	1
(B)	1	2	3	4
<input checked="" type="radio"/> (C)	3	4	1	2
(D)	1	3	4	2

er

59

GT714
[Turn over

160. Which one of the following is correctly matched?

- | | | |
|---------------------------------|---|-------------------|
| I. Indian Association | - | Nethaji |
| II. Drain Theory | - | Dadhabai Naoroji |
| III. Servants of Indian Society | - | Mahatma Gandhi |
| IV. Ahimsa Bharat | - | Feroze Shah Mehta |
- (A) I (B) II
(C) III (D) IV

கீழ்க்கண்ட கருத்துக்கள் எது எவ்வாறு பொருத்தியுள்ளது?

- | | | |
|-------------------------------|---|------------------|
| I. இத்தியம் எண்ணம் | - | நெதாஜி |
| II. வெளியே எண்ணம் வெட்டல் | - | தாதாபாய் நாரோஜி |
| III. இத்தியம் பணியாளர் எண்ணம் | - | மாஹாத்மா காந்தி |
| IV. அஹிம்சா பாரதம் | - | பெரோசு சாஹ் மேதா |
- (A) I (B) II
(C) III (D) IV

161. Choose the best answer :

During the Great revolt of 1857 the Governor General of India was

- (A) Lord Lytton
(B) Lord Ripon
(C) Lord Canning
(D) Lord Wellesley

விவரமாக விவரமாகக் கொடுக்கப்பட்டு :

1857 பெரும் புரட்சியின் போது இந்தியாவின் ஆளுநர் ஜெனரலாக இருந்தவர்

- (A) லிட்டன் பிரிவு
(B) ரிபன் பிரிவு
(C) கான்சிங் பிரிவு
(D) வெல்சலி பிரிவு

GT714

60

er

162. Match List I with List II and select the correct answer using the codes given below the lists :

- | List I | List II |
|--|---------|
| (a) Tamil Nadu Revenue Recovery Act | 1. 1969 |
| (b) Tamil Nadu Land Encroachment Act | 2. 1905 |
| (c) Registration of Birth and Death Act | 3. 2000 |
| (d) Tamil Nadu Birth and Death Registration Rule | 4. 1864 |

- (a) (b) (c) (d)
(A) 3 1 2 4
(B) 4 2 1 3
(C) 4 1 3 2
(D) 1 2 3 4

பட்டியல் I உட்கள் பட்டியல் II-ஐப் பொருத்தி, பட்டியல்களுக்கு கீழே உள்ள குறியீடுகளுக்கு விவரமாக விவரமாகக் கொடுக்கப்பட்டுள்ளன.

- | பட்டியல் I | பட்டியல் II |
|--|-------------|
| (a) தமிழ்நாடு வருமானப் வசூல் சட்டம் | 1. 1969 |
| (b) தமிழ்நாடு ஆய்வுச் சட்டம் | 2. 1905 |
| (c) பிறப்புகள் (ம) இறப்புகள் பதிவு சட்டம் | 3. 2000 |
| (d) தமிழ்நாடு பிறப்புகள் (ம) இறப்புகள் பதிவு விதிகள் | 4. 1864 |

- (a) (b) (c) (d)
(A) 3 1 2 4
(B) 4 2 1 3
(C) 4 1 3 2
(D) 1 2 3 4

er

61

GT714
[Turn over

163. How many acres is one Hectare?

- (A) 3.50 acre
- (B) 2.47 acre
- (C) 3.27 acre
- (D) 2.67 acre

ஒரு ஹெக்டேர் எவ்வளவு ஏக்கர்?

- (A) 3.50 ஏக்கர்
- (B) 2.47 ஏக்கர்
- (C) 3.27 ஏக்கர்
- (D) 2.67 ஏக்கர்

164. In which year Direct Recruitment to the Village Administrative Officer post was come under the purview of Tamilnadu Public Service Commission?

- (A) 1977
- (B) 1980
- (C) 1981
- (D) 1983

எந்த ஆண்டு நேரடி நியமன அலுவலர்கள் பதவி, தமிழ்நாடு அரசு புவியியல் சேவையின் கீழ் வந்தது?

- (A) 1977
- (B) 1980
- (C) 1981
- (D) 1983

165. One hectare is equal to

- (A) 10,000 square metres
- (B) 10 acres
- (C) 2 acres
- (D) 100 cents

ஒரு ஹெக்டேர் சமம் —————

- (A) 10,000 சதுர மீட்டர்
- (B) 10 ஏக்கர்
- (C) 2 ஏக்கர்
- (D) 100 சென்.

GT714

62

ஏ

166. A village statistical register should be prepared once in

- (A) Every year
- (B) 2 years
- (C) 5 years
- (D) 10 years

ஆங்கா புவியியல் பதிவு நெடுங்காலம் செய்யப்பட வேண்டியது

- (A) ஒவ்வொரு ஆண்டும்
- (B) இரண்டு ஆண்டுகளுக்கு ஒருமுறை
- (C) ஐந்து ஆண்டுகளுக்கு ஒருமுறை
- (D) பத்தாண்டுகளுக்கு ஒருமுறை

167. The Maximum period for granting lease of lands is (as per the RSO 24A)

- (A) 5 years
- (B) 4 years
- (C) 3 years
- (D) 2 years

RSO 24(A) - நிலம் கட்டிடம் கொடுக்க அதிகாரம் எவ்வளவு

- (A) 5 ஆண்டுகள்
- (B) 4 ஆண்டுகள்
- (C) 3 ஆண்டுகள்
- (D) 2 ஆண்டுகள்

168. Which one of the following is/are TRUE?

- I. Deserted women certificate shall be issued by Tahsildar.
- II. Other Backward class certificate shall be issued by Revenue Divisional Officer.
- III. Inter-Caste marriage certificate shall be issued by Tahsildar.
- (A) I and III
- (B) I only
- (C) II only
- (D) III only

கீழ்க்கண்டவற்றில் எது/எவை சரியானவை?

- I. காலவாரம் விட்டுவிட்ட பெண்களுக்கு சான்றிதழ் வழங்கப்படும்.
- II. இரண்டு பின்தாங்கப்பட்ட வகுப்பினருக்கான சான்றிதழ் வழங்கும் அதிகாரம் வட்டாட்சியகம் வழங்கும்.
- III. கல்கலத் திருமண சான்றிதழ் வழங்கும் அதிகாரம் வட்டாட்சியகம் வழங்கும்.
- (A) I மற்றும் III
- (B) I மட்டும்
- (C) II மட்டும்
- (D) III மட்டும்

ஏ

63

GT714
[Turn over]

168. A number when divided by 2, 3, 4, 5 and 6 leaves remainder 1, 2, 3, 4 and 5. It is divisible by 7, then the least possible number is

- (A) 117 (B) 119
(C) 113 (D) 121

$LCM(2,3,4,5,6) - 1$
 $120 - 1 = 119$

ஒரு எண்ணின் 2, 3, 4, 5 மற்றும் 6-ஊடாக வகுக்கப்படும் போது மீதி முறையாக 1, 2, 3, 4 மற்றும் 5, ஆகியவை தரப்படும் எனில் அந்த மீதிக்கு எண்

- (A) 117 (B) 119
(C) 113 (D) 121

170. Find the sum of all natural numbers between 300 and 500 which are divisible by 11.

- (A) 7337 (B) 7227
(C) 7447 (D) 7557

This is AP. we $S_n = \frac{n}{2} [a + l]$

300க்கும் 500-க்குள் இடைவெளி 11-ஆக வகுக்கப்படும் இயல் எண்களின் கூட்டுமجموع காண்க.

- (A) 7337 (B) 7227
(C) 7447 (D) 7557

171. A man saves ₹ 3,000 per month from his total salary of ₹ 20,000. The percentage of his savings is

- (A) 5% (B) 10%
(C) 15% (D) 20%

$\frac{3000}{20000} \times 100 = 15\%$

ஒரு மனிதன் ₹ 20,000 மாதம் தான் ஒன்று ஒவ்வொரு மாதமும் ₹ 3,000ஊடாக சேமிப்பு செய்துள்ளார் எனில் அவருடைய மாத சேமிப்பு சதவீதம்

- (A) 5% (B) 10%
(C) 15% (D) 20%

172. A seller says the cost of an item at a profit of 3%. Then he gives a discount of 3%. Then he sells the item at

- (A) a profit of 0.09% (B) a loss of 0.09%
(C) a profit of 9% (D) no loss or no profit

Let CP = 100
MP = 103
SP = 103 - 3.09 = 99.91
0.09% Loss

ஒருவர் ஒரு பொருளை 3% இலாபம் கிடைத்து விலை போட்டுள்ளார். பின்னர் 3% தள்ளுபடி அளிப்பதற்கான எனில் அவர் அப்பொருளை விற்கும் போது

- (A) 0.09% இலாபத்திற்கு (B) 0.09% இழப்பிற்கு
(C) 9% இலாபத்திற்கு (D) இலாபமும் இழப்பும் இல்லாத நிலை

173. $(2^2 + 4^{-1}) \times 2^2$ is equal to

- (A) 2 (B) 5
(C) 4 (D) 3

$(1 + \frac{1}{4}) \times 2^2$
 $\frac{5}{4} \times 4 = 5$

$(2^2 + 4^{-1}) \times 2^2 =$

- (A) 2 (B) 5
(C) 4 (D) 3

RADIAN IAS ACADEMY
717 9th Road, Opp. Anna Arch
NSK Nagar, Chennai - 600 106
Ph: 98404 00825, 98427 00005
www.radiannews.pbworks.com

174. If $x = \sqrt{2} - \sqrt{3}$ then \sqrt{x} is

- (A) $\frac{1}{2}(\frac{x+1}{x})$ (B) $\frac{1}{2}(\frac{x-1}{x})$

- (C) $\frac{1}{2}(\frac{1}{x}-x)$ (D) $x - \frac{1}{x}$

$\frac{1}{x} = \frac{\sqrt{2} + \sqrt{3}}{2-3} = -\sqrt{2} - \sqrt{3} \Rightarrow \frac{1}{2}(\frac{x-1}{x}) = \sqrt{2}$

$x = \sqrt{2} - \sqrt{3}$ எனில் \sqrt{x} என்பது

- (A) $\frac{1}{2}(\frac{x+1}{x})$ (B) $\frac{1}{2}(\frac{x-1}{x})$

- (C) $\frac{1}{2}(\frac{1}{x}-x)$ (D) $x - \frac{1}{x}$

175. Babo has 540 cakes. He wants to distribute them equally to some persons. If the number of cakes given to each person is equal to 15% of the number of persons, find the number of cakes given to each person. Let the number of persons be 'x'

- (A) 60 (B) 20
(C) 9 (D) 54

Each person will get $\frac{540}{x}$ Cakes $\Rightarrow \frac{540}{x} = \frac{15}{100} \times x \Rightarrow x = 60$

மது என்பவருக்கு 540 கேக்குகள் உள்ளன. அவர் அவைகளை சில நபர்களுக்கு சமீதமாக வகுப்பதற்கான. ஒவ்வொருவருக்கும் கொடுக்க கேக்குகளின் எண்ணிக்கையானது கொடுத்த நபர்களின் எண்ணிக்கையின் 15% ஆகும் எனில் ஒவ்வொரு நபருக்கும் கொடுக்கப்பட்ட கேக்குகளின் எண்ணிக்கையைக் காண்க.

- (A) 60 (B) 20
(C) 9 (D) 54

மதுவருக்கு $\frac{540}{x}$ கேக்குகள் $\Rightarrow \frac{540}{x} = \frac{15}{100} \times x \Rightarrow x = 60$

176. Choose the correct answer.

Problems for environmental pollution is

- I. Rapidly growing population.
- II. Industrialization
- III. Land pollution
- IV. Water pollution

- (A) I and II are correct
- (B) II only correct
- (C) III only correct
- (D) IV only correct

சுற்றுச்சூழல் மாசுபாடு சார்ந்த பிரச்சனை

- I. விரைவில் வளர்ந்து கொண்டிருக்கும் மனிதர் தொகை
- II. தொழிற்சாலைகள்
- III. நில மாசுபாடு
- IV. நீர் மாசுபாடு

- (A) I, II ஆகியவை
- (B) II மட்டும் ஆகியவை
- (C) III மட்டும் ஆகியவை
- (D) IV மட்டும் ஆகியவை

177. The infectious stage of Plasmodium is

- (A) Sporozoite
- (B) Merozoite
- (C) Schizont
- (D) Trophozoite

செல்லுள்ள பிளாசுமோடியின் தொற்று நிலை

- (A) ஸ்போரோசைட்டு
- (B) மெரோசைட்டு
- (C) ஸ்கிஸண்ட்
- (D) டிரோபோசைட்டு

178. Haemoglobin is made up of

- (A) Manganese and Chlorine
- (B) Iron and Iodine
- (C) Iodine and Protein
- (D) Iron and Protein

ஹீமோகுளபின் தயாரிக்கப் பயன்படும் பொருள்

- (A) மங்கனம் மற்றும் குளோரின்
- (B) இரும்பு மற்றும் அயோடின்
- (C) அயோடின் மற்றும் புரதம்
- (D) இரும்பு மற்றும் புரதம்

GT714

66

179. Consider the following :

Assertion (A) : A planetarium is the universe brought in boxes.

Reason (R) : A large band of stars, gas and dust particles held together by gravitational force is called Nebula.

- (A) Both A and R are true, R is the correct explanation of A
- (B) A is true, R is false
- (C) A is false, R is true
- (D) Both A and R are true, R is not the correct explanation of A

கருத்து (A) : கிரகக்கூடம் என்பது விண்மண்டலத்தைக் காட்டும் ஒரு பெட்டி.

காரணம் (R) : அண்டத்தில் உள்ள நடிகளின் பெரிய தொகுப்பு, ஈர்ப்பு விசையால் ஒன்றுக்கொன்று இணைக்கப்பட்டுள்ளன.

காரணம் (R) : அண்டத்தில் உள்ள நடிகளின் பெரிய தொகுப்பு, ஈர்ப்பு விசையால் ஒன்றுக்கொன்று இணைக்கப்பட்டுள்ளன.

- (A) A மற்றும் R ஆகியவை சரியானவை, R A-யின் சரியான விளக்கம் ஆகும்.
- (B) A சரி, R தவறு.
- (C) A தவறு, R சரி.
- (D) A மற்றும் R ஆகியவை சரியானவை, R A-யின் சரியான விளக்கம் R ஆகும்.

180. Consider the following statements about planets and choose the correct ones.

- I. The planet which has maximum no. of satellite - Earth.
- II. The superior planets are - Mars, Jupiter, Saturn.
- III. The planets with maximum Albedo - Mercury, Venus.
- IV. The planet which is close to the Sun - Mercury.

- (A) I, II and III only
- (B) II, III and IV only
- (C) I, II, III and IV
- (D) II and IV only

கிரகங்கள் பற்றிய கீழ்க்கண்ட கூற்றுகள்.

கீழ்க்கண்ட கூற்றுகளில் சரியானவை?

- I. அதிக மாதிரிகள் கொண்ட கிரகம் - பூமி.
- II. மேல் கிரகங்கள் - செவ்வாய், செவ்வாய், சனி.
- III. அதிக ஆல்டோ கிரகங்கள் - செவ்வாய், வெள்ளர்.
- IV. சூரியனுக்கு அருகில் உள்ள கிரகம் - பூமி.

- (A) I, II மற்றும் III மட்டும்
- (B) II, III மற்றும் IV மட்டும்
- (C) I, II, III, IV ஆகியவை
- (D) II மற்றும் IV மட்டும்

67

67

GT714
[Turn over

181. Which is the Public Sector Industry?

- (A) BHEL - conferred with 'Maharatna' status on Feb 1, 2013
- (B) Reliance
- (C) TATA
- (D) Ashok Leyland

கொடுக்கப்பட்டவைகளில் பொதுத் துறை நிறுவனம்?

- (A) BHEL
- (B) Reliance
- (C) TATA
- (D) Ashok Leyland

182. Match the following -

- | | |
|--|-------------------------|
| (a) Saakshar Bharat | 1. secondary education |
| (b) Rashtriya Madhyamic Shiksha Abhiyan (RMSA) | 2. elementary education |
| (c) Sarva Shiksha Abhiyan (SSA) | 3. higher education |
| (d) Indian Institute of Technology | 4. female literacy |

- (A) 4 1 2 3
- (B) 1 4 3 2
- (C) 4 2 1 3
- (D) 4 3 1 2

குறுக்குத் தர:

- | | |
|---|-----------------|
| (a) சாக்ஷர் பாரத் | 1. இடைநிலைப்படி |
| (b) ராஷ்டிரியா மத்தியமிக் சிக்ஷா அபியான் (RMSA) | 2. தொடக்கப்படி |
| (c) சர்வா சிக்ஷா அபியான் (SSA) | 3. உயர்நிலை |
| (d) இந்திய தொழில்நுட்ப நிறுவனம் | 4. பெண் கல்வி |

- (A) 4 1 2 3
- (B) 1 4 3 2
- (C) 4 2 1 3
- (D) 4 3 1 2

GT714

68

er

183. Article associated with providing reservation of seats for SC/ST in Panchayat elections

- (A) Art. 243 K - Election to panchayats
 - (B) Art. 241 K
 - (C) Art. 243 D
 - (D) Art. 241 D
- No such articles exist
241 - High courts for union territories

பஞ்சாயத்துத் தேர்தல்களில் SC/ST இட ஒதுக்கீடு தொடர்பான கீழ்க்கண்டிருக்கின்ற கட்டுரைகளில் எது பொருத்தமானது?

- (A) Art. 243 K
- (B) Art. 241 K
- (C) Art. 243 D
- (D) Art. 241 D

184. Select the incorrect pair regarding Sahitya Academy Award 2013 :

- (A) Javed Akhtar - Poet
- (B) Mridula Garg - Novelist
- (C) Suhridh Serkar - Essay
- (D) M.N. Palkar - Short Stories

சahitya அகாடமி விருது 2013-ல் கீழ்க்கண்ட இணைப்புகளில் எது தவறானது?

- (A) ஜவீத் அக்தர் - கவிதை
- (B) மீர்தூலா கர்க் - புதினம்
- (C) சுஹ்ரித் சர்கர் - கட்டுரை
- (D) M.N. பர்கர் - சிறுகதை

er

69

GT714
[Turn over

185. In which Indian State, Government of India planned to build world's largest 4000 MV Solar Project?

- (A) Gujarat
- (B) Rajasthan
- (C) Haryana
- (D) Punjab

இந்திய அரசு, இந்தியாவின் எந்த மாநிலத்தில் உலகத்திலேயே பெரிய 4000 MV சூரிய சக்தி மின்சாரவகைத் திட்டம் தீர்மானித்தது?

- (A) குஜராத்
- (B) ராஜஸ்தான்
- (C) ஹரியானா
- (D) பஞ்சாப்

186. The status of Election Commissioner is equivalent to that of the

- (A) High Court Judge
- (B) District Court Judge
- (C) Supreme Court Judge
- (D) Magistrate

தலைவர் தேர்தல் ஆணையர், மாநகரத் திருவிளையாடல் அதிகாரம் பெற்றிருப்பவர்?

- (A) உயர் நீதிமன்ற நீதிபதி
- (B) மாவட்ட நீதிமன்ற நீதிபதி
- (C) உச்ச நீதிமன்ற நீதிபதி
- (D) மாஜிஸ்ட்ரேட்

187. Tamil Nadu Legislative consists of _____ members.

- (A) 233
- (B) 234
- (C) 235
- (D) 236

தமிழ்நாடு சட்டமன்றப் பேரவை உறுப்பினர்களின் எண்ணிக்கை:

- (A) 233
- (B) 234
- (C) 235
- (D) 236

GT714

70

er

188. Bengal was revoked in the year of

- (A) 1905
- (B) 1907
- (C) 1909
- (D) 1911

வங்காளம் மீள்பிரிவு இயக்கம் நடந்த ஆண்டு

- (A) 1905
- (B) 1907
- (C) 1909
- (D) 1911

189. Consider the following statement :

Assertion (A) : The congress leaders in the early stage were called Moderates.

Reason (R) : Moderates advocated a radical way to win their demand.

Now select your answer according to the coding scheme given below :

- (A) Both (A) and (R) are true and (R) is the correct explanation of (A)
- (B) Both (A) and (R) are true and (R) is not the correct explanation of (A)
- (C) (A) is true but (R) is false
- (D) (A) is false but (R) is true

கீழ்க்கண்ட அறிக்கைகளைக் கவனி :

கருத்து (A) : இந்திய தேசிய காங்கிரஸ் தலைவர்கள் ஆரம்ப கால கட்டத்தில் மிதமானவர்கள் என்று அழைக்கப்பட்டனர்.

சாரணம் (R) : மிதமானவர்கள் தங்கள் கோரிக்கைகளை மெதுவாகவும் மூலக்கோள் வழியாகவும் வலியுறுத்தினார்கள் என்று கூறினார்கள்.

இவற்றைக் கவனித்து கீழ்க்கண்ட குறியீட்டு முறைப்படி :

- (A) (A) உண்மை (R) இயல்பாகும் எனில் (R) உண்மையான (A)-யின் சரியான விளக்கம்.
- (B) (A) உண்மை (R) இயல்பாகும் எனில் (R) உண்மையான (A)-யின் சரியான விளக்கம் அல்ல.
- (C) (A) உண்மை (R) தவறு.
- (D) (A) தவறு ஆனால் (R) உண்மை.

er

71

GT714
[Turn over

190. After Jullian Wala Bagh massacre Rabindranath Tagore renounced his title

- (A) Leadership (B) Lordship
 (C) Knighthood (D) Kingship

ஜூலியன் வாலாபாக் படுகொலைக்குப் பின் இரவீந்திரநாத் தாகூர் துறந்த பட்டம்

- (A) தலைவர் (B) தலைவர்
 (C) கிள்குடி (D) அரசர்

191. Which one of the following is correctly matched?

- I. W.C. Banerjee - Swadeshi Mithran
 II. G. Subramaniya Iyer - The Hindu
 III. Lala Lajpathi Roy - Kesari
 IV. Lakshmi Narayan Chetty - Samarth Darpan

- (A) I (B) II
 (C) III (D) IV

பின்வரும் கூற்றுகளில் எது சரியான பொருத்தியுள்ளது?

- I. டி.சி. பானர்ஜி - சுவாஸ்தி மித்ரன்
 II. ஜி. சுப்ரமணியன் அய்யர் - 'தி ஹிந்து'
 III. லாலா லஜபதி ராய் - கெசரி
 IV. லக்ஷ்மி நாராயன் சேட்டி - சமர்த் தர்பன்

- (A) I (B) II
 (C) III (D) IV

GT714

72

ஏ.

192. Match the following A with B.

A	B
(a) Surat Split	1. 1927
(b) August Declaration	2. 1923
(c) The Swaraja Party	3. 1917
(d) Formation of Simon Commission	4. 1907

(a)	(b)	(c)	(d)
(A) 1	4	2	3
(B) 4	3	2	1
(C) 3	1	2	4
(D) 2	4	1	3

பொருத்தம்: 'A' யுடன் 'B' யுடன்

A	B
(a) சூரத் பிரிவு	1. 1927
(b) ஆகஸ்ட் அறிக்கை	2. 1923
(c) சுவராஜா கட்சி	3. 1917
(d) சிமன் குழுக்கூட்டல் அறிக்கை	4. 1907

(a)	(b)	(c)	(d)
(A) 1	4	2	3
(B) 4	3	2	1
(C) 3	1	2	4
(D) 2	4	1	3

ஏ.

73

GT714
 [Turn over

193. Match the List-I with List II correctly and select your answer using the codes given below :

- | List I | List II |
|----------------------------------|------------------------------|
| (a) Herald of New age in India | 1. Swami Dyananda Saraswathy |
| (b) Martin Luther of Hinduism | 2. Annie Besant |
| (c) New India | 3. Ramakrishna Mission |
| (d) Photovoltaic Lighting System | 4. Rajaram Mohan Ray |

Codes :

- | | (a) | (b) | (c) | (d) |
|--------------------------------------|-----|-----|-----|-----|
| (A) | 1 | 2 | 3 | 4 |
| (B) | 2 | 3 | 4 | 1 |
| <input checked="" type="radio"/> (C) | 4 | 1 | 2 | 3 |
| (D) | 3 | 2 | 1 | 4 |

பட்டியல் - I இல் உள்ளவை - II இல் உள்ளவற்றுடன் சரியாக பொருள்படும்படி சரியான குறியீடுகளைக் கொண்டு சரியான விடையைத் தேர்ந்தெடு.

- | பட்டியல் I | பட்டியல் II |
|--|----------------------------|
| (a) தலித் இயக்கங்களின் விடிவேளாணி | 1. சுவாமி தயானந்த் சரஸ்வதி |
| (b) இந்திய சமயத்தின் மார்ட்டின் லூதர் | 2. அன்னிபெசன்ட் |
| (c) திய இயக்கம் | 3. இராமகிருஷ்ண மடம் |
| (d) சூரிய ஒளியின் மூலம் மின்சாரம் உற்பத்தி செய்வதில் திட்டம் | 4. இராஜமோகன் ராய் |

குறியீடுகள் :

- | | (a) | (b) | (c) | (d) |
|--------------------------------------|-----|-----|-----|-----|
| (A) | 1 | 2 | 3 | 4 |
| (B) | 2 | 3 | 4 | 1 |
| <input checked="" type="radio"/> (C) | 4 | 1 | 2 | 3 |
| (D) | 3 | 2 | 1 | 4 |

GT714

74

er

194. Which one of the following is objectionable Parimbake?

- (A) Assesand dry waste
- (B) Natham Parimbaka
- (C) Gravuyard Parimbake
- (D) Pattai Parimbake

கீழ்க்கண்டவற்றில் எது ஆட்சேபகரமான பரிம்பகே?

- (A) தீர்மான ஏற்பட்ட தரிசு
- (B) நத்தம் பரிம்பகே
- (C) மயான பரிம்பகே
- (D) பட்டை பரிம்பகே

195. As per the Tamil Nadu Land reforms (Fixation of Ceiling on Land) Act, 1961, ceiling is fixed for a family consisting of 5 members is

- (A) 5 Standard Acres
- (B) 15 Standard Acres
- (C) 10 Standard Acres
- (D) 30 Standard Acres

1961-ல் ஆகாண்டிய தனியுரிமை நிலை நிர்ணயத்திற்கு (நிலை உச்சவரம்பு நிர்ணயத்திற்கு) உட்படுத்திய சிறு ஐந்து நபர் குடும்பம் ஒரு குடும்பத்திற்கு நிலையுரிமை உச்சவரம்பு அளவில் உள்ளது.

- (A) 5 ஏக்கர்
- (B) 15 ஏக்கர்
- (C) 10 ஏக்கர்
- (D) 30 ஏக்கர்

196. The Descriptive Memoir of Revenue village is mentioned in _____ Registers.

- (A) 'A' Register
- (B) 'B' Register
- (C) 'C' Register
- (D) 'D' Register

சாவகம் சீரமைப்பில் வரலாற்று குறிப்பு (Descriptive Memoir) எந்த பதிவேட்டில் உள்ளது?

- (A) 'A' பதிவேடு
- (B) 'B' பதிவேடு
- (C) 'C' பதிவேடு
- (D) 'D' பதிவேடு

er

75

GT714
[Turn over

197. Beshmadayam means

- (A) The Inam given to Religious organisations
- (B) The Inam given to chattram and education institutions
- (C) The Inam given to former Palayakkars, Zamindars and their relatives, staff and legal heirs
- (D) The Inam given to Brahmins and other religious persons for their personal use

பிஷ்மடேயம் என்பது

- (A) இட சந்தாபஸங்களுக்கும், அதற்கு ஊழியர் செலவுக்கும் வழங்கப்பட்ட இனம்
- (B) கல்வி மற்றும் கல்வி சந்தாபஸங்களுக்கும் செலுக்கப்பட்ட இனம்
- (C) முன்னாள் பாலையக்கர்கள், ஜமீந்தார்கள் ஆதிபேரரசு உடலினர், ஊழியர், வாரிசுதாரர் ஆதிபேரரசுக்கு வழங்கப்பட்ட இனம்
- (D) வேழியர்களுக்கும் மற்றும் இடர் இடத்திற்கும் செய்த உபயோகத்திற்கு வழங்கப்பட்ட இனம்

198. Who is the authority to be taken over the relinquishment of land?

- (A) Revenue Divisional Officer
- (B) Tahsildar
- (C) Village Administrative Officer
- (D) Revenue Inspector

நில உரிமையை விட்டுக்கொடுப்பதை ஏற்றுக்கொள்ளும் அதிகாரம் யாருடையதாகும்?

- (A) வருவாய் செட்டி ஆஃபிசர்
- (B) தாஸில்தார்
- (C) கிராம நிர்வாக ஆஃபிசர்
- (D) வருவாய் ஆய்வர்

GT714

76

er

199. A Fasil year commencing from and ending with?

- (A) January to December
- (B) October to September
- (C) April to March
- (D) July to June

ஒரு பசலி ஆண்டு எப்போது தொடங்கி எப்போது முடிவடைகிறது?

- (A) ஜனவரி முதல் டிசம்பர் வரை
- (B) அக்டோபர் முதல் செப்டம்பர் வரை
- (C) ஏப்ரல் முதல் மார்ச் வரை
- (D) ஜூலை முதல் ஜூன் வரை

200. Match List I with List II and choose the correct one.

List I-Village Accounts

List II

- (a) Account No. 10(1)
- (b) Account No. 13
- (c) Account No. 19
- (d) Account No. 1

- 1. Pattawise Chitta
- 2. Daily Collection Account
- 3. Birth and Death Account
- 4. Monthly Cultivation Account

- | | | | |
|--|-----|-----|-----|
| (a) | (b) | (c) | (d) |
| <input checked="" type="radio"/> (A) 1 2 3 4 | | | |
| (B) 1 4 3 2 | | | |
| (C) 1 3 2 4 | | | |
| (D) 4 1 3 2 | | | |

பட்டியல் I-ஊராட்சி கணக்குகள்

- (a) கணக்கு எண் 10 (1)
- (b) கணக்கு எண் 13
- (c) கணக்கு எண் 19
- (d) கணக்கு எண் 1

பட்டியல் II

- 1. பட்டவாசி சிட்டி
- 2. தினாதி வசூல் கணக்கு
- 3. பிறப்பு மற்றும் இறப்பு கணக்கு
- 4. மாதாந்தர விவசாய கணக்கு

- | | | | |
|--|-----|-----|-----|
| (a) | (b) | (c) | (d) |
| <input checked="" type="radio"/> (A) 1 2 3 4 | | | |
| (B) 1 4 3 2 | | | |
| (C) 1 3 2 4 | | | |
| (D) 4 1 3 2 | | | |

er

77

GT714
[Turn over